

M P Professional Examination Board

Notations :

- Options shown in green color and with ✓ icon are correct.
- Options shown in red color and with ✗ icon are incorrect.

Question Paper Name:	SSSVA Paper 2
Subject Name:	SSSVA
Creation Date:	2017-07-01 17:44:54
Duration:	180
Total Marks:	200
Display Marks:	No
Calculator:	None
Magnifying Glass Required?:	No
Ruler Required?:	No
Eraser Required?:	No
Scratch Pad Required?:	No
Rough Sketch/Notepad Required?:	No
Protractor Required?:	No

Group A

Group Number :	1
Group Id :	33547215
Group Maximum Duration :	0
Group Minimum Duration :	180
Revisit allowed for view? :	No
Revisit allowed for edit? :	No
Break time:	0
Group Marks:	200

General Studies Part 1

Section Id :	33547230
Section Number :	1
Section type :	Online
Mandatory or Optional:	Mandatory
Number of Questions:	94
Number of Questions to be attempted:	94
Section Marks:	100
Display Number Panel:	Yes
Group All Questions:	No


Sub-Section Number:	1
Sub-Section Id:	33547230
Question Shuffling Allowed :	Yes

Question Number : 1 Question Id : 3354722727 Question Type : MCQ Option Shuffling : Yes Display Question Number : Yes
Single Line Question Option : No Option Orientation : Vertical

Correct : 1 Wrong : 0

Two masses 'M' and 'm' are connected by a massless string. They are pulled by a force F on a frictionless horizontal surface. The tension in the string will be:

दो द्रव्यमानों 'M' तथा 'm' को एक भारहीन डोरी से जोड़कर F बल से खींचा जाता है तो डोरी में तनाव बल का मान होगा:



Options :

1. ✓ $FM/(M+m)$
2. ✗ $F/(M+m)$
3. ✗ FM/m
4. ✗ $Fm/(M+m)$

Question Number : 2 Question Id : 3354722728 Question Type : MCQ Option Shuffling : Yes Display Question Number : Yes
Single Line Question Option : No Option Orientation : Vertical

Correct : 1 Wrong : 0

A mass 'm' is taken to a planet whose mass is equal to half that of earth and radius is four times that of earth. The mass of the body on this planet will be:

m द्रव्यमान की वस्तु को एक ऐसे ग्रह पर ले जाये जिसका द्रव्यमान पृथ्वी के द्रव्यमान का आधा तथा त्रिज्या पृथ्वी की त्रिज्या की चार गुणी हो तो वहाँ पर उसका द्रव्यमान होगा:

Options :

1. ✗ $m/2$
2. ✗ $m/8$
3. ✗ $m/4$
4. ✓ m

Question Number : 3 Question Id : 3354722729 Question Type : MCQ Option Shuffling : Yes Display Question Number : Yes
Single Line Question Option : No Option Orientation : Vertical

Correct : 1 Wrong : 0

Solids which break or rupture above the elastic limit are classified as:

प्रत्यास्थता सीमा के ऊपर टूट जाने वाले किसी ठोस को वर्गीकृत किया जाता है:

Options :

1. ✓ Brittle/भंगूर
2. ✗ Elastic/प्रत्यास्थता
3. ✗ Ductile/तन्य
4. ✗ Malleable/आघातवर्धनीय

Question Number : 4 Question Id : 3354722730 Question Type : MCQ Option Shuffling : Yes Display Question Number : Yes
Single Line Question Option : No Option Orientation : Vertical

Correct : 1 Wrong : 0

The r.m.s. velocity of gas molecules is 300 m/sec. The r.m.s velocity of molecules of gas with twice the molecular weight and half the absolute temperature is:

किसी गैस की r.m.s. वेग 300 m/sec है। एक अन्य गैस जिसका अनुभार दो गुना तथा परम ताप पूर्व मान का आधा है कि r.m.s. चाल होगी:

Options :

1. ✗ 300 m/sec/300 मी./से.
2. ✗ 600 m/sec/600 मी./से.
3. ✗ 75 m/sec/75 मी./से.
4. ✓ 150 m/sec/150 मी./से.

Question Number : 5 Question Id : 3354722731 Question Type : MCQ Option Shuffling : No Display Question Number : Yes
Single Line Question Option : No Option Orientation : Vertical

Correct : 1 Wrong : 0

The de-Broglie wavelength associated with the particle of mass m moving with velocity v is:
v वेग से गतिमान m द्रव्यमान के कण से सम्बद्ध डी.ब्रोग्ली तरंगदैर्घ्य होगी:

Options :

1. ☒ $\frac{h}{mv}$

2. ☐ $\frac{mv}{h}$

3. ☐ $\frac{mh}{v}$

4. ☐ $\frac{m}{hv}$

Question Number : 6 Question Id : 3354722732 Question Type : MCQ Option Shuffling : Yes Display Question Number : Yes
Single Line Question Option : No Option Orientation : Vertical

Correct : 1 Wrong : 0

A soap bubble is given a negative charge, then its radius:
एक साबुन के बुलबुले को ऋण आवेश दिया गया है, तो उसकी त्रिज्या:

Options :

1. ☐ Decreases/कम हो जाती है

2. ☒ Increases/बढ़ जाती है

3. ☐ Remains unchanged/अपरिवर्तित रहती है

4. ☐ Nothing can be predicted as information is insufficient/जानकारी अपूर्ण होने से कुछ भी नहीं कह सकते हैं

Question Number : 7 Question Id : 3354722733 Question Type : MCQ Option Shuffling : Yes Display Question Number : Yes
Single Line Question Option : No Option Orientation : Vertical

Correct : 1 Wrong : 0

A 220 volt, 1000 watt bulb is connected across a 110 volt mains supply. The power consumed will be:
एक 220 वोल्ट एवं 1000 वॉट का लैम्प 110 वोल्ट की मेन सप्लाय में जुड़ा हुआ है। शक्ति क्षय होगा -:

Options :

1. ☒ 250 watt/250 वॉट

2. ☐ 500 watt/500 वॉट

3. ☐ 750 watt/750 वॉट

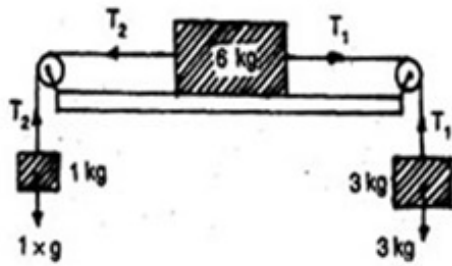
4. ☐ 1000 watt/1000 वॉट

Question Number : 8 Question Id : 3354722734 Question Type : MCQ Option Shuffling : Yes Display Question Number : Yes
Single Line Question Option : No Option Orientation : Vertical

Correct : 1 Wrong : 0

The blocks of masses 1 kg, 6 kg and 3 kg are connected by a mass less string passing over two frictionless pulleys attached at the two opposite ends of a smooth horizontal surface as shown. What is the acceleration of the system if, $g = 10 \text{ m s}^{-2}$?

मेज के दो सिरों पर बंधी घिरनियों से तीन द्रव्यमानों 1 kg, 6 kg तथा 3 kg को जोड़कर रखा गया है यदि सतह घर्षण रहित हो निकाय का त्वरण होगा?



Options :

1. ✗ 1 m s^{-2}
2. ✓ 2 m s^{-2}
3. ✗ 3 m s^{-2}
4. ✗ 4 m s^{-2}

Question Number : 9 Question Id : 3354722735 Question Type : MCQ Option Shuffling : Yes Display Question Number : Yes
Single Line Question Option : No Option Orientation : Vertical

Correct : 1 Wrong : 0

The minimum real charge on any particle which can exist is:
किसी कण पर उपस्थित न्यूनतम वास्तविक आवेश हो सकता है:

Options :

1. ✓ $1.6 \times 10^{-19} \text{ coulomb} / 1.6 \times 10^{-19} \text{ कूलॉम}$
2. ✗ $1.6 \times 10^{-10} \text{ coulomb} / 1.6 \times 10^{-10} \text{ कूलॉम}$
3. ✗ $4.8 \times 10^{-10} \text{ coulomb} / 4.8 \times 10^{-10} \text{ कूलॉम}$
4. ✗ Zero/शून्य

Question Number : 10 Question Id : 3354722736 Question Type : MCQ Option Shuffling : Yes Display Question Number : Yes
Single Line Question Option : No Option Orientation : Vertical

Correct : 1 Wrong : 0

H_2O is dipolar whereas BeF_2 is not. It is because:

H_2O द्विध्रुवीय है जबकि BeF_2 नहीं है। क्योंकि:

Options :

1. ✗ The electronegativity of F is greater than that of O / F की विद्युतऋणता O से अधिक है
 H_2O involves hydrogen bonding whereas BeF_2 is a discrete molecule / H_2O में हाइड्रोजन
2. ✗ आबंध होता है जबकि BeF_2 एकलक अणु है

3. ✖ H_2O is linear and BeF_2 is angular/ H_2O रैखिक है और BeF_2 कोणीय है

4. ✔ H_2O is angular and BeF_2 is linear/ H_2O कोणीय है और BeF_2 रैखिक है

Question Number : 11 Question Id : 3354722737 Question Type : MCQ Option Shuffling : Yes Display Question Number : Yes
Single Line Question Option : No Option Orientation : Vertical

Correct : 1 Wrong : 0

Which of the following will give maximum number of isomers:

कौन सबसे अधिक समावयवी प्रदर्शित करेगा:-

Options :

1. ✖ $[\text{Co}(\text{NH}_3)_4\text{Cl}_2]$

2. ✖ $[\text{Ni}(\text{en})(\text{NH}_3)_4]^{+2}$

3. ✖ $[\text{Ni}(\text{C}_2\text{O}_4)(\text{en})_2]^{+2}$

4. ✔ $[\text{Cr}(\text{SCN})_2(\text{NH}_3)_4]^+$

Question Number : 12 Question Id : 3354722738 Question Type : MCQ Option Shuffling : Yes Display Question Number : Yes
Single Line Question Option : No Option Orientation : Vertical

Correct : 1 Wrong : 0

Caesium oxide will be:

सीज़ियम ऑक्साइड होगा:

Options :

1. ✔ Very strongly basic/ अत्यधिक प्रबल क्षारीय

2. ✖ Acidic/ अम्लीय

3. ✖ Weakly basic/ दुर्बल क्षारीय

4. ✖ Amphoteric / उभयधर्मी

Question Number : 13 Question Id : 3354722739 Question Type : MCQ Option Shuffling : No Display Question Number : Yes
Single Line Question Option : No Option Orientation : Vertical

Correct : 1 Wrong : 0

Anhydrous AlCl_3 is used as:

जलीय AlCl_3 का उपयोग करते हैं:

Options :

1. ✔ Catalyst in Friedel-Crafts reaction/ फ्रीडल-क्राफ्ट अभिक्रिया में उत्प्रेरक के रूप में

2. ✖ Moderant/ मंदक के रूप में

3. ✖ Catalyst in Clemmensen's reaction/ क्लिमेंशन अभिक्रिया में उत्प्रेरक के रूप में

4. ✖ None of these/ इनमें से कोई नहीं

Question Number : 14 Question Id : 3354722740 Question Type : MCQ Option Shuffling : Yes Display Question Number : Yes
Single Line Question Option : No Option Orientation : Vertical

Correct : 1 Wrong : 0

Which one of the following substance has the highest proton affinity:

निम्न में से किस पदार्थ की प्रोटोन बन्धुता सबसे अधिक है:

Options :

1. ✖ H_2O

2. ✖ H_2S

3. ✔ NH_3

4. ✖ PH_3

Question Number : 15 Question Id : 3354722741 Question Type : MCQ Option Shuffling : Yes Display Question Number : Yes
Single Line Question Option : No Option Orientation : Vertical

Correct : 1 Wrong : 0

Equivalent weight of oxidant is the weight of the oxidant which combines with:
ऑक्सीकारक का तुल्य भार इसका वह द्रव्यमान है जो निम्न के साथ संकलित होता है-

Options :

1. ✔ 1 Mole electrons / 1 मोल इलेक्ट्रॉन से

2. ✖ 1 Mole protons / 1 मोल प्रोटॉन से

3. ✖ 1 Mole electrons + 1 Mole protons / 1 मोल प्रोटॉन + 1 मोल इलेक्ट्रॉन से

4. ✖ 1/2 Mole electrons / 1/2 मोल इलेक्ट्रॉन से

Question Number : 16 Question Id : 3354722742 Question Type : MCQ Option Shuffling : No Display Question Number : Yes
Single Line Question Option : No Option Orientation : Vertical

Correct : 1 Wrong : 0

Monomer of natural rubber is:
प्राकृतिक रबर का एकलक है:

Options :

1. ✖ $\text{CH}_2 = \text{C} = \text{CH}_2$

2. ✖ $\text{CH}_2 = \text{CH} - \text{Cl}$

3. ✔
$$\begin{array}{c} \text{CH}_2 = \text{C} - \text{CH} = \text{CH}_2 \\ | \\ \text{CH}_3 \end{array}$$

4. ✖ None of these/इनमें से कोई नहीं

Question Number : 17 Question Id : 3354722743 Question Type : MCQ Option Shuffling : No Display Question Number : Yes
Single Line Question Option : No Option Orientation : Vertical

Correct : 1 Wrong : 0

Outer electronic configuration of the element of atomic number 24 is:
परमाणु क्रमांक 24 का सही बाह्य इलेक्ट्रॉनीय विन्यास है:-

Options :

1. ✔ $3s^2 3p^6 3d^5 4s^1$

2. ✖ $3s^2 3p^6 3d^4 4s^2$

3. ✖ $3s^2 2p^6 3d^6$

4. ✖ None of these/इनमें से कोई नहीं

Question Number : 18 Question Id : 3354722744 Question Type : MCQ Option Shuffling : Yes Display Question Number : Yes
Single Line Question Option : No Option Orientation : Vertical

Correct : 1 Wrong : 0

If mendel has chosen to study traits determined by linked genes he would not have discovered:
यदि मेण्डल अपने अध्ययन में सहलग्नता दर्शाने वाले लक्षणों को चुन लेता तो किसकी खोज नहीं कर पाता:

Options :

1. ✖ Law of segregation/ पृथक्करण का नियम
2. ✖ Law of dominance/ प्रभाविता का नियम
3. ✔ Law of independant assortment / स्वतंत्रा अपव्यूहन का नियम
4. ✖ Law of unit character/ एकल लक्षण का नियम

Question Number : 19 Question Id : 3354722745 Question Type : MCQ Option Shuffling : Yes Display Question Number : Yes
Single Line Question Option : No Option Orientation : Vertical

Correct : 1 Wrong : 0

What is vector:

वाहक है:

Options :

1. ✔ Disease transmitted by host/पोषित द्वारा प्रेषित रोग
2. ✖ Natural reservoir of disease/ रोग के प्राकृतिक जलाशय
3. ✖ Human parasite/ मानव परजीवी
4. ✖ Pathogenic protozoa/ रोगजनक प्रोटोजोआ

Question Number : 20 Question Id : 3354722746 Question Type : MCQ Option Shuffling : Yes Display Question Number : Yes
Single Line Question Option : No Option Orientation : Vertical

Correct : 1 Wrong : 0

Malpighian cell is also known as:

मेलपीजियन कोशिका कहलाती है:

Options :

1. ✔ Macrosclereid/ मेक्रोस्क्लीरिड
2. ✖ Asterosclereid/ एस्ट्रोस्क्लीरिड
3. ✖ Stone cell/ स्टोन कोशिका
4. ✖ Trichosclereid/ ट्रिचोस्क्लीरिड

Question Number : 21 Question Id : 3354722747 Question Type : MCQ Option Shuffling : Yes Display Question Number : Yes
Single Line Question Option : No Option Orientation : Vertical

Correct : 1 Wrong : 0

Endosmosis takes place when a plant cell is immersed in:

अन्तः परासरण की क्रिया होती है जब पादप कोशिका को रखा जाता है:

Options :

1. ✖ Isotonic solution/ समपरासरीय विलयन
2. ✔ Hypotonic solution/ अल्पपरासरीय विलयन
3. ✖ Hypertonic solution/ अतिपरासरीय विलयन
4. ✖ HCl solution/ HCl विलयन

Question Number : 22 Question Id : 3354722748 Question Type : MCQ Option Shuffling : Yes Display Question Number : Yes
Single Line Question Option : No Option Orientation : Vertical

Correct : 1 Wrong : 0

Seal is:

सील होती है:

Options :

1. ✖ Fish/ मछली
2. ✔ Carnivorous mammal/ माँसाहारी स्तनी
3. ✖ Herbivorous mammal/ शाकाहारी स्तनी
4. ✖ Amphibian/ उभयचर

Question Number : 23 Question Id : 3354722749 Question Type : MCQ Option Shuffling : Yes Display Question Number : Yes
Single Line Question Option : No Option Orientation : Vertical

Correct : 1 Wrong : 0

Hepatic caecae in cockroach are derived from:

कॉकरोच में हिपेटिक सीका किससे निकलते हैं-

Options :

1. ✖ Crop/ क्राप
2. ✖ Gizzard/ गिजर्ड
3. ✔ Midgut/ मध्य आँत
4. ✖ Hind gut/ पश्च आंत्र

Question Number : 24 Question Id : 3354722750 Question Type : MCQ Option Shuffling : Yes Display Question Number : Yes
Single Line Question Option : No Option Orientation : Vertical

Correct : 1 Wrong : 0

Which scientist gave the initial idea of survival of the fittest:

किस वैज्ञानिक ने 'योग्यतम की उत्तरजीविता' का विचार सबसे पहले प्रस्तुत किया:

Options :

1. ✖ Wallace/ वॉलेस
2. ✖ Spencer/ स्पेन्सर
3. ✔ Darwin/ डार्विन
4. ✖ Mendel/ मैण्डल

Question Number : 25 Question Id : 3354722751 Question Type : MCQ Option Shuffling : Yes Display Question Number : Yes
Single Line Question Option : No Option Orientation : Vertical

Correct : 1 Wrong : 0

Branch of biology dealing with heredity and variation is called:

जीव-विज्ञान की वह शाखा जिसमें वंशागति तथा विभिन्नताओं का अध्ययन किया जाता है, कहलाती है:

Options :

1. ✖ Palaentology/ जीवाश्म विज्ञान
2. ✖ Evolution / उद्विकास
3. ✔ Genetics/ आनुवंशिकी
4. ✖ Ecology/ पारिस्थितिकी

Question Number : 26 Question Id : 3354722752 Question Type : MCQ Option Shuffling : Yes Display Question Number : Yes
Single Line Question Option : No Option Orientation : Vertical

Correct : 1 Wrong : 0

जिस विद्या द्वारा भाषा के शब्दों, उनके रूपों, प्रयोगों आदि का ज्ञान होता है- वह है :

Options :

1. ✖ लिपिविज्ञान
2. ✖ शैलीविज्ञान
3. ✖ रूपविज्ञान
4. ✔ व्याकरण

Question Number : 27 Question Id : 3354722753 Question Type : MCQ Option Shuffling : Yes Display Question Number : Yes
Single Line Question Option : No Option Orientation : Vertical

Correct : 1 Wrong : 0

‘ग’ वर्ण का उच्चारण स्थान है :

Options :

1. ✖ दंत
2. ✖ तालु
3. ✖ मूर्द्धा
4. ✔ कंठ

Question Number : 28 Question Id : 3354722754 Question Type : MCQ Option Shuffling : Yes Display Question Number : Yes
Single Line Question Option : No Option Orientation : Vertical

Correct : 1 Wrong : 0

वाक्य के आठ प्रकार होते हैं :

Options :

1. ✖ रचना के आधार पर
2. ✖ रूप के आधार पर
3. ✖ शैली के आधार पर
4. ✔ अर्थ के आधार पर

Question Number : 29 Question Id : 3354722755 Question Type : MCQ Option Shuffling : Yes Display Question Number : Yes
Single Line Question Option : No Option Orientation : Vertical

Correct : 1 Wrong : 0

हिंदी के पहले समाचार पत्र ‘उदंतमार्तंड’ के संपादक थे :

Options :

1. ✖ राजा शिवप्रसाद ‘सितारेहिंद’
2. ✖ भारतेन्दु हरिश्चन्द्र
3. ✖ गयाप्रसाद शुक्ल ‘सनेही’
4. ✔ पंडित जुगलकिशोर शुक्ल

Question Number : 30 Question Id : 3354722756 Question Type : MCQ Option Shuffling : Yes Display Question Number : Yes
Single Line Question Option : No Option Orientation : Vertical

Correct : 1 Wrong : 0

किस अलंकार में अप्रस्तुत या प्रतीक के माध्यम से प्रस्तुत का व्यंग्यात्मक कथन किया जाता है :

Options :

1. ✖ सहोक्ति
2. ✖ विशेषोक्ति
3. ✖ समासोक्ति
4. ✔ अन्योक्ति

Question Number : 31 Question Id : 3354722757 Question Type : MCQ Option Shuffling : Yes Display Question Number : Yes
Single Line Question Option : No Option Orientation : Vertical

Correct : 1 Wrong : 0

हिंदी में बहुप्रचलित ‘अदालत’ शब्द है :

Options :

1. ✖ उर्दू
2. ✖ हिंदी
3. ✖ ईरानी
4. ✔ अरबी

Question Number : 32 Question Id : 3354722758 Question Type : MCQ Option Shuffling : Yes Display Question Number : Yes
Single Line Question Option : No Option Orientation : Vertical

Correct : 1 Wrong : 0

निम्नलिखित में सही कालक्रम है :

Options :

- ✘ छायावाद-नयी कविता-प्रगतिवाद-प्रयोगवाद
- ✘ छायावाद-प्रयोगवाद-प्रगतिवाद-नयी कविता
- ✘ नयी कविता-छायावाद-प्रगतिवाद-प्रयोगवाद
- ✔ छायावाद-प्रगतिवाद-प्रयोगवाद-नयी कविता

Question Number : 33 Question Id : 3354722759 Question Type : MCQ Option Shuffling : Yes Display Question Number : Yes
Single Line Question Option : No Option Orientation : Vertical

Correct : 1 Wrong : 0

मध्यप्रदेश से छपने वाली बाल-पत्रिका है :

Options :

- ✘ सरस सलिल
- ✘ बालहंस
- ✘ नन्हे सम्राट
- ✔ चकमक

Question Number : 34 Question Id : 3354722760 Question Type : MCQ Option Shuffling : Yes Display Question Number : Yes
Single Line Question Option : No Option Orientation : Vertical

Correct : 1 Wrong : 0

निम्नलिखित में कौन-सा विकल्प विलोम है :

Options :

- ✘ गहन-वन
- ✘ पाताल-रसातल
- ✘ गुफा-गह्वर
- ✔ परोक्ष-प्रत्यक्ष

Question Number : 35 Question Id : 3354722761 Question Type : MCQ Option Shuffling : Yes Display Question Number : Yes
Single Line Question Option : No Option Orientation : Vertical

Correct : 1 Wrong : 0

‘उत्पत्ति और विनाश से रहित’ के लिए सही शब्द है :

Options :

- ✘ अनाहत
- ✘ असीम
- ✘ देवता
- ✔ नित्य

Question Number : 36 Question Id : 3354722762 Question Type : MCQ Option Shuffling : Yes Display Question Number : Yes
Single Line Question Option : No Option Orientation : Vertical

Correct : 1 Wrong : 0

निम्नांकित में अशुद्ध वाक्य है :

Options :

- ✘ एक गिलास पानी लाओ
- ✘ दस छात्रों के नाम बताओ
- ✘ उसके पास बहुत रुपये हैं
- ✔ वह बेसन पिसवाने गया है

Question Number : 37 Question Id : 3354722763 Question Type : MCQ Option Shuffling : Yes Display Question Number : Yes
Single Line Question Option : No Option Orientation : Vertical

Correct : 1 Wrong : 0

देवनागरी लिपि में लिखी जाने वाली भाषा है :

Options :

1. ✖ मणिपुरी
2. ✖ भूटानी
3. ✖ उड़िया
4. ✔ नेपाली

Question Number : 38 Question Id : 3354722764 Question Type : MCQ Option Shuffling : Yes Display Question Number : Yes
Single Line Question Option : No Option Orientation : Vertical

Correct : 1 Wrong : 0

निम्नलिखित में शुद्ध वाक्य है :

Options :

1. ✖ पति-पत्नी के झगड़े का हेतु क्या हो सकता है?
2. ✖ कई रेलवे के कर्मचारियों की गिरफ्तारी हुई।
3. ✖ यह पुस्तकें किसकी हैं?
4. ✔ यहाँ बाघ और बकरी एक घाट पर पानी पीते हैं।

Question Number : 39 Question Id : 3354722765 Question Type : MCQ Option Shuffling : No Display Question Number : Yes
Single Line Question Option : No Option Orientation : Vertical

Correct : 1 Wrong : 0

संज्ञा, सर्वनाम, विशेषण और क्रिया के जिस रूप से संख्या का बोध उसे :

Options :

1. ✖ द्विगु समास कहते हैं।
2. ✖ अव्यय कहते हैं।
3. ✖ लिंग कहते हैं।
4. ✔ वचन कहते हैं।

Question Number : 40 Question Id : 3354722766 Question Type : MCQ Option Shuffling : No Display Question Number : Yes
Single Line Question Option : No Option Orientation : Vertical

Correct : 1 Wrong : 0

किस शब्द में 'अरबी-फारसी' का उपसर्ग है :

Options :

1. ✖ अलग
2. ✖ प्रतिवादी
3. ✖ सुजान
4. ✔ लाचार

Question Number : 41 Question Id : 3354722767 Question Type : MCQ Option Shuffling : No Display Question Number : Yes
Single Line Question Option : No Option Orientation : Vertical

Correct : 1 Wrong : 0

'आँख बदल जाना' के लिए सही विकल्प है :

Options :

1. ✖ होश में आना
2. ✖ आँख खराब होना
3. ✖ इधर-उधर देखना
4. ✔ कृपा-दृष्टि न रहना

Question Number : 42 Question Id : 3354722768 Question Type : MCQ Option Shuffling : No Display Question Number : Yes
Single Line Question Option : No Option Orientation : Vertical

Correct : 1 Wrong : 0

‘दुभाषिया’ शब्द के लिए इंग्लिश शब्द होगा :

Options :

1. ✖ Bilanguager
2. ✖ Bilingual person
3. ✖ Interpretation
4. ✔ Interpreter

Question Number : 43 Question Id : 3354722769 Question Type : MCQ Option Shuffling : No Display Question Number : Yes
Single Line Question Option : No Option Orientation : Vertical

Correct : 1 Wrong : 0

‘ब्रह्मर्षि’ में संधि है :

Options :

1. ✖ दीर्घ-स्वर संधि
2. ✖ यण-स्वर संधि
3. ✖ अयादि-स्वर संधि
4. ✔ गुण-स्वर संधि

Question Number : 44 Question Id : 3354722770 Question Type : MCQ Option Shuffling : Yes Display Question Number : Yes
Single Line Question Option : No Option Orientation : Vertical

Correct : 1 Wrong : 0

‘निंदनीय’ में प्रत्यय है :

Options :

1. ✖ दनीय
2. ✖ नीय
3. ✖ य
4. ✔ अनीय

Question Number : 45 Question Id : 3354722771 Question Type : MCQ Option Shuffling : Yes Display Question Number : Yes
Single Line Question Option : No Option Orientation : Vertical

Correct : 1 Wrong : 0

‘भूतकाल’ के भेद हैं :

Options :

1. ✖ 3
2. ✖ 4
3. ✖ 8
4. ✔ 6

Question Number : 46 Question Id : 3354722772 Question Type : MCQ Option Shuffling : Yes Display Question Number : Yes
Single Line Question Option : No Option Orientation : Vertical

Correct : 1 Wrong : 0

उत्तराधिकार में प्राप्त संपत्ति के लिए उपयुक्त शब्द है :

Options :

1. ✖ निधि
2. ✖ धरोहर
3. ✖ थाती
4. ✔ विरासत

Question Number : 47 Question Id : 3354722773 Question Type : MCQ Option Shuffling : Yes Display Question Number : Yes
Single Line Question Option : No Option Orientation : Vertical

Correct : 1 Wrong : 0

‘नोन-तेल-लकड़ी’ में है :

Options :

1. ✖ अव्ययीभाव समास
2. ✖ द्विगु-समास
3. ✖ तत्पुरुष-समास
4. ✔ द्वंद्व समास

Question Number : 48 Question Id : 3354722774 Question Type : MCQ Option Shuffling : Yes Display Question Number : Yes
Single Line Question Option : No Option Orientation : Vertical

Correct : 1 Wrong : 0

‘त् श् द् ध् न्’ हैं :

Options :

1. ✖ मूल व्यंजन
2. ✖ अंतस्थ व्यंजन
3. ✖ ऊष्म व्यंजन
4. ✔ स्पर्श व्यंजन

Question Number : 49 Question Id : 3354722775 Question Type : MCQ Option Shuffling : Yes Display Question Number : Yes
Single Line Question Option : No Option Orientation : Vertical

Correct : 1 Wrong : 0

‘कोकिल’ शब्द है :

Options :

1. ✖ तद्भव
2. ✖ नवनिर्मित
3. ✖ देशज
4. ✔ तत्सम

Question Number : 50 Question Id : 3354722776 Question Type : MCQ Option Shuffling : Yes Display Question Number : Yes
Single Line Question Option : No Option Orientation : Vertical

Correct : 1 Wrong : 0

अभी तक भारत में हुए विश्व हिंदी सम्मेलनों की कुल संख्या है :

Options :

1. ✖ 2
2. ✖ 4
3. ✖ 1
4. ✔ 3

Question Id : 3354722777 Question Type : COMPREHENSION Sub Question Shuffling Allowed : No Group Comprehension
Questions : No

Question Numbers : (51 to 55)

Question Label : Comprehension

DIRECTIONS: Read the passage carefully and choose the best answer to each question out of the four alternatives.

The Right of children to Free and Compulsory Education Act came into force from April 1, 2010. This was a historic day for the people of India as from this day the right to education will be accorded the same legal status as the right to life as provided by Article 21A of the Indian Constitution. Every child in the age group of 6-14 years will be provided 8 years of elementary education in an age appropriate classroom in the vicinity of his/her neighborhood.

Any cost that prevents a child from accessing school will be borne by the State which shall have the responsibility of enrolling the child as well as ensuring attendance and completion of 8 years of schooling. No child shall be denied admission for want of documents; no child shall be turned away if the admission cycle in the school is over and no child shall be asked to take an admission test. Children with disabilities will also be educated in the mainstream schools. The Prime Minister Shri Manmohan Singh has emphasized that it is important for the country that if we nurture our children and young people with the right education, India's future as a strong and prosperous country is secure.

Sub questions

Question Number : 51 Question Id : 3354722778 Question Type : MCQ Option Shuffling : Yes Display Question Number : Yes
Single Line Question Option : No Option Orientation : Vertical

Correct : 1 Wrong : 0

Why was April 1, 2010 considered a historic day for the people of India?

Options :

1. ✓ Because Right of children to Free and Compulsory Education Act came into force
2. ✗ Because right to life as provided by Article 21A was nullified
3. ✗ Both (a) and (b)
4. ✗ None of the above

Question Number : 52 Question Id : 3354722779 Question Type : MCQ Option Shuffling : No Display Question Number : Yes
Single Line Question Option : No Option Orientation : Vertical

Correct : 1 Wrong : 0

What is the aim of right to education?

Options :

1. ✓ To provide 8 years of elementary education to every child in the age group of 6-14 years
2. ✗ To get all the children admitted in private schools
3. ✗ To get all the children admitted in government schools
4. ✗ None of the above

Question Number : 53 Question Id : 3354722780 Question Type : MCQ Option Shuffling : No Display Question Number : Yes
Single Line Question Option : No Option Orientation : Vertical

Correct : 1 Wrong : 0

Which word in the passage means, "The area near or surrounding a particular place"?

Options :

1. ✓ Vicinity
2. ✗ Historic
3. ✗ Legal
4. ✗ Elementary

Question Number : 54 Question Id : 3354722781 Question Type : MCQ Option Shuffling : No Display Question Number : Yes
Single Line Question Option : No Option Orientation : Vertical

Correct : 1 Wrong : 0

As per the information contained in the passage, which statement is true?

Options :

1. ✗ No child shall be denied admission for want of documents

2. ✖ Any cost that prevents a child from accessing school will be borne by the State
3. ✖ State shall have the responsibility of enrolling the child as well as ensuring attendance and completion of 8 years of schooling
4. ✔ All are true

Question Number : 55 Question Id : 3354722782 Question Type : MCQ Option Shuffling : No Display Question Number : Yes
Single Line Question Option : No Option Orientation : Vertical

Correct : 1 Wrong : 0

As per the information contained in the passage, which statement is not true?

Options :

1. ✖ A child shall be turned away if the admission cycle in the school is over
2. ✖ All children will be required to take an admission test in order to ensure admission to a good school
3. ✖ Children with disabilities will not be educated in the mainstream schools
4. ✔ All are untrue

Question Number : 56 Question Id : 3354722783 Question Type : MCQ Option Shuffling : No Display Question Number : Yes
Single Line Question Option : No Option Orientation : Vertical

Correct : 1 Wrong : 0

Out of the given four words only one is spelt correctly. Find the word that is correctly spelt.

Options :

1. ✔ Exercise
2. ✖ Existance
3. ✖ Expereince
4. ✖ Explanation

Question Number : 57 Question Id : 3354722784 Question Type : MCQ Option Shuffling : No Display Question Number : Yes
Single Line Question Option : No Option Orientation : Vertical

Correct : 1 Wrong : 0

Out of the given four words only one is not spelt correctly. Find the word that is not correctly spelt.

Options :

1. ✖ Embarrass
2. ✔ Envrionment
3. ✖ Equipped
4. ✖ Exaggerate

Question Number : 58 Question Id : 3354722785 Question Type : MCQ Option Shuffling : No Display Question Number : Yes
Single Line Question Option : No Option Orientation : Vertical

Correct : 1 Wrong : 0

Out of the given four words only one is not spelt correctly. Find the word that is not correctly spelt.

Options :

1. ✖ Recommend
2. ✔ Refrence
3. ✖ Repetition
4. ✖ Restaurant

Question Number : 59 Question Id : 3354722786 Question Type : MCQ Option Shuffling : Yes Display Question Number : Yes
Single Line Question Option : No Option Orientation : Vertical

Correct : 1 Wrong : 0

DIRECTIONS: A sentence that is idiomatic expression given in inverted commas then what is the meaning of the idiomatic expression "beat around the bush" in the sentence given below?

Will you please stop "beating around the bush" and get to the point?

Options :

1. ☒ avoid talking about what is important
2. ☐ to sing loud songs
3. ☐ to call a number of people
4. ☐ to make a number of fake promises

Question Number : 60 Question Id : 3354722787 Question Type : MCQ Option Shuffling : No Display Question Number : Yes Single Line Question Option : No Option Orientation : Vertical

Correct : 1 Wrong : 0

What is the meaning of the idiom 'To give someone the benefit of the doubt'?

Options :

1. ☐ To hate someone
2. ☐ To constantly keep doubting a person.
3. ☐ To give a large amount of money to someone.
4. ☒ Believe someone's statement, without proof.

Question Number : 61 Question Id : 3354722788 Question Type : MCQ Option Shuffling : Yes Display Question Number : Yes Single Line Question Option : No Option Orientation : Vertical

Correct : 1 Wrong : 0

DIRECTIONS: A sentence with an inverted comma word is given below. Find the word which is most similar in meaning to the inverted comma's word.

He is one of Britain's most "eminent" scientists.

Options :

1. ☐ regular
2. ☐ worst
3. ☐ notorious
4. ☒ famous

Question Number : 62 Question Id : 3354722789 Question Type : MCQ Option Shuffling : Yes Display Question Number : Yes Single Line Question Option : No Option Orientation : Vertical

Correct : 1 Wrong : 0

DIRECTIONS: A sentence with an inverted comma word is given below. Find the word which is most similar in meaning to the inverted comma's word.

When the town was recaptured, we found soldiers who had been "captives" for several years.

Options :

1. ☐ complaining
2. ☐ living
3. ☐ escaping
4. ☒ prisoners

Question Number : 63 Question Id : 3354722790 Question Type : MCQ Option Shuffling : Yes Display Question Number : Yes Single Line Question Option : No Option Orientation : Vertical

Correct : 1 Wrong : 0

DIRECTIONS: A sentence with an inverted comma word is given below. Find the word which is most opposite in meaning to the inverted comma's word.

You must cast aside all thoughts of "revenge".

Options :

1. ✖ punishment
2. ✔ forgiveness
3. ✖ hatred
4. ✖ enmity

Question Number : 64 Question Id : 3354722791 Question Type : MCQ Option Shuffling : Yes Display Question Number : Yes
Single Line Question Option : No Option Orientation : Vertical

Correct : 1 Wrong : 0

DIRECTIONS: A sentence with an inverted comma word is given below. Find the word which is most opposite in meaning to the inverted comma's word.

Patience is a "virtue".

Options :

1. ✖ quality
2. ✖ blessing
3. ✔ vice
4. ✖ satisfaction

Question Number : 65 Question Id : 3354722792 Question Type : MCQ Option Shuffling : Yes Display Question Number : Yes
Single Line Question Option : No Option Orientation : Vertical

Correct : 1 Wrong : 0

DIRECTIONS: Out of the given options, choose the most appropriate one to fill in the blank.

The photograph shows the happy couple standing _____ a banana tree.

Options :

1. ✔ beside
2. ✖ into
3. ✖ among
4. ✖ from

Question Number : 66 Question Id : 3354722793 Question Type : MCQ Option Shuffling : Yes Display Question Number : Yes
Single Line Question Option : No Option Orientation : Vertical

Correct : 1 Wrong : 0

DIRECTIONS: Out of the given options, choose the most appropriate one to fill in the blank.

_____ Tom is sick; he plans to get his homework done on time.

Options :

1. ✔ Although
2. ✖ So
3. ✖ Either
4. ✖ Hence

Question Number : 67 Question Id : 3354722794 Question Type : MCQ Option Shuffling : No Display Question Number : Yes
Single Line Question Option : No Option Orientation : Vertical

Correct : 1 Wrong : 0

DIRECTIONS: Out of the given options, choose the most appropriate one to fill in the blank.

Each of these phrases _____ a different meaning.

Options :

1. ✔ has
2. ✖ have

3. ✖ are
4. ✖ were

Question Number : 68 Question Id : 3354722795 Question Type : MCQ Option Shuffling : Yes Display Question Number : Yes
Single Line Question Option : No Option Orientation : Vertical

Correct : 1 Wrong : 0

DIRECTIONS: Out of the given options, choose the most appropriate one to fill in the blank.

Here are _____ ideas that might help you.

Options :

1. ✔ a few
2. ✖ few
3. ✖ little
4. ✖ any

Question Number : 69 Question Id : 3354722796 Question Type : MCQ Option Shuffling : Yes Display Question Number : Yes
Single Line Question Option : No Option Orientation : Vertical

Correct : 1 Wrong : 0

DIRECTIONS: In the given sentence there might be an error. Find out which part of the sentence has an error:
If there is no error, mark your answer as (d) i.e. 'No error'.

The president spoke (a)/ neither for nor against (b)/ the economic reform. (c)/ No Error (d)

Options :

1. ✖ (a)
2. ✖ (b)
3. ✖ (c)
4. ✔ (d)

Question Number : 70 Question Id : 3354722797 Question Type : MCQ Option Shuffling : Yes Display Question Number : Yes
Single Line Question Option : No Option Orientation : Vertical

Correct : 1 Wrong : 0

DIRECTIONS: In the given sentence there might be an error. Find out which part of the sentence has an error:
If there is no error, mark your answer as (d) i.e. 'No error'.

The plan remained secret (a)/ until it was not exposing (b)/ by the press. (c)/ No Error (d)

Options :

1. ✖ (a)
2. ✔ (b)
3. ✖ (c)
4. ✖ (d)

Question Number : 71 Question Id : 3354722798 Question Type : MCQ Option Shuffling : Yes Display Question Number : Yes
Single Line Question Option : No Option Orientation : Vertical

Correct : 1 Wrong : 0

DIRECTIONS: In the given sentence there might be an error. Find out which part of the sentence has an error:
If there is no error, mark your answer as (d) i.e. 'No error'.

Two American surgeons (a)/ were last week (b)/ honoured with Nobel Prize of Medicine and Physiology. (c)/ No Error (d)

Options :

1. ✖ (a)
2. ✖ (b)
3. ✔ (c)

4. ✖ (d)

Question Number : 72 Question Id : 3354722799 Question Type : MCQ Option Shuffling : Yes Display Question Number : Yes
Single Line Question Option : No Option Orientation : Vertical

Correct : 1 Wrong : 0

DIRECTIONS: In the given question, a part of the sentence is printed in inverted comma. Below are given alternatives to the inverted comma's part as (a), (b) and (c) which may improve the sentence. Choose the correct alternative. In case no improvement is needed, your answer is (d).

The flood "prevented healthcare professional from" providing timely care.

Options :

1. ✖ have prevented healthcare professional to
2. ✖ have prevented healthcare professional into
3. ✖ have been preventing healthcare professional into
4. ✔ No Improvement

Question Number : 73 Question Id : 3354722800 Question Type : MCQ Option Shuffling : Yes Display Question Number : Yes
Single Line Question Option : No Option Orientation : Vertical

Correct : 1 Wrong : 0

DIRECTIONS: In the given question, a part of the sentence is printed in inverted comma. Below are given alternatives to the inverted comma's part as (a), (b) and (c) which may improve the sentence. Choose the correct alternative. In case no improvement is needed, your answer is (d).

He hardly ever speaks, "doesn't he?"

Options :

1. ✔ does he?
2. ✖ don't he?
3. ✖ hasn't he?
4. ✖ No Improvement

Question Number : 74 Question Id : 3354722801 Question Type : MCQ Option Shuffling : Yes Display Question Number : Yes
Single Line Question Option : No Option Orientation : Vertical

Correct : 1 Wrong : 0

DIRECTIONS: Rearrange the following four sentences (P), (Q), (R), and (S) in a proper sequence to form a meaningful paragraph and then choose the right choice of the sequence of letters which represents the correct arrangement.

1. Chatrapati Shivaji attacked the small kingdom of Bellary in southern India.
- P. Bellary's ruler, Queen Malbai, was taken prisoner along with the rest of her soldier's.
- Q. Shivaji stepped down from the throne and touched her feet.
- R. Upon being brought before Shivaji, Queen Malbai requested him to give her the death sentence as that was the rule for the captured enemy.
- S. The soldiers of Bellary fought bravely but they lost because their army was very small.
6. "Your Highness", he said, "I cannot insult a brave woman like you. You are like my mother Jijabai. From now on may I think of you as my mother?"

Options :

1. ✔ SPRQ
2. ✖ PQRS
3. ✖ QRPS
4. ✖ RPQS

Question Number : 75 Question Id : 3354722802 Question Type : MCQ Option Shuffling : Yes Display Question Number : Yes
Single Line Question Option : No Option Orientation : Vertical

Correct : 1 Wrong : 0

DIRECTIONS: Rearrange the following four sentences (P), (Q), (R), and (S) in a proper sequence to form a meaningful paragraph and then choose the right choice of the sequence of letters which represents the correct arrangement.

1. Once, a wolf was very hungry. It looked for food here and there.
- P. But he saw there was no food in the hole, instead, a wolf.
- Q. The hungry wolf squeezed into the hole. It ate all the food.
- R. But it couldn't get any. At last it found a loaf of bread and piece of meat in the hole of a tree.
- S. It was a woodcutter's lunch. He was on his way back to the tree to have lunch.
6. On seeing the woodcutter, the wolf tried to get out of the hole. But it couldn't. The woodcutter caught the wolf and gave it nice beatings.

Options :

1. ✓ RQSP
2. ✗ PQRS
3. ✗ QPRS
4. ✗ SPQR

Question Id : 3354722803 Question Type : COMPREHENSION Sub Question Shuffling Allowed : Yes Group Comprehension Questions : No

Question Numbers : (76 to 78)

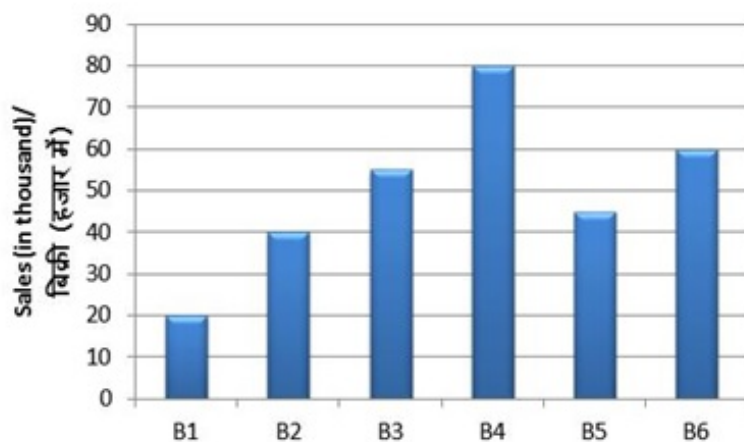
Question Label : Comprehension

DIRECTIONS: Study the following graph carefully and answer the questions that follow:

निर्देश: निम्नलिखित ग्राफ का ध्यान से अध्ययन कर नीचे दिए गए प्रश्नों के उत्तर दीजिये।

Sales of books (in thousands) from six branches (B1, B2, B3, B4, B5, B6) of a publishing company are given below.

एक प्रकाशन कम्पनी की छः शाखाओं (B1, B2, B3, B4, B5, B6) से बेची गई पुस्तकों की संख्या (हजार में) नीचे दी गई है।



Sub questions

Question Number : 76 Question Id : 3354722804 Question Type : MCQ Option Shuffling : Yes Display Question Number : Yes Single Line Question Option : No Option Orientation : Vertical

Correct : 1 Wrong : 0

The average sales by branches B1 and B4 is equal to the average sales by which of the following branches. B1 और B4 शाखाओं की औसत बिक्री, निम्न में से किन शाखाओं की औसत बिक्री के समान है?

Options :

1. ✓ B3 and B5/ B3 और B5
2. ✗ B3 and B6/ B3 और B6
3. ✗ B5 and B6/ B5 और B6
4. ✗ B2 and B5/ B2 और B5

Question Number : 77 Question Id : 3354722805 Question Type : MCQ Option Shuffling : Yes Display Question Number : Yes Single Line Question Option : No Option Orientation : Vertical

Correct : 1 Wrong : 0

The number of branches in which sales of books are below the average sales of books are:
वैसी कितनी शाखाएँ हैं, जिनमें पुस्तकों की बिक्री औसत पुस्तकों की बिक्री से कम है?

Options :

- 1. ✖ 2
- 2. ✔ 3
- 3. ✖ 1
- 4. ✖ 4

Question Number : 78 Question Id : 3354722806 Question Type : MCQ Option Shuffling : Yes Display Question Number : Yes
Single Line Question Option : No Option Orientation : Vertical

Correct : 1 Wrong : 0

If each branch can increase the sales of books by 2 percent, then the total number of books (in thousands) sold by the company will be:

यदि प्रत्येक शाखा में पुस्तकों की बिक्री में 2 प्रतिशत की वृद्धि हो जाए, तो प्रकाशन कम्पनी की पुस्तकों की कुल बिक्री (हजार में) कितनी हो जाएगी?

Options :

- 1. ✖ 305
- 2. ✔ 306
- 3. ✖ 310
- 4. ✖ 315

Question Number : 79 Question Id : 3354722807 Question Type : MCQ Option Shuffling : No Display Question Number : Yes
Single Line Question Option : No Option Orientation : Vertical

Correct : 1 Wrong : 0

$$25 - 5 [2 + 3\{2 - 2(5 - 3) + 5\} - 10] \div 4 = ?$$

Options :

- 1. ✖ 5
- 2. ✖ 23.25
- 3. ✔ 23.75
- 4. ✖ 25

Question Number : 80 Question Id : 3354722808 Question Type : MCQ Option Shuffling : Yes Display Question Number : Yes
Single Line Question Option : No Option Orientation : Vertical

Correct : 1 Wrong : 0

$$\frac{29}{20} - \left[\frac{1}{5} + \left\{ \frac{1}{4} + \left(\frac{5}{6} - \frac{1}{3} + \frac{1}{2} \right) \right\} \right] = ?$$

Options :

- 1. ✔ 0
- 2. ✖ 1
- 3. ✖ $\frac{9}{20}$
- 4. ✖ $\frac{9}{10}$

Question Number : 81 Question Id : 3354722809 Question Type : MCQ Option Shuffling : Yes Display Question Number : Yes
Single Line Question Option : No Option Orientation : Vertical

Correct : 1 Wrong : 0

The sum of the first four terms of an AP is 28 and sum of the first eight terms of the same AP is 88. Find the sum of the first 16 terms of the AP?

किसी समान्तर श्रेणी के प्रथम चार पदों का योग 28 है तथा प्रथम आठ पदों का योग 88 है। समान्तर श्रेणी के प्रथम 16 पदों का योग ज्ञात करें।

Options :

- 1. ✖ 346
- 2. ✖ 340
- 3. ✔ 304
- 4. ✖ 268

Question Number : 82 Question Id : 3354722810 Question Type : MCQ Option Shuffling : Yes Display Question Number : Yes
Single Line Question Option : No Option Orientation : Vertical

Correct : 1 Wrong : 0

The wheel of a motor car makes 1000 revolutions in moving 440 m. The diameter (in metre) of the wheel is:
एक मोटर कार की पहिया 440 मीटर की दूरी तय करने में 1000 चक्कर लगाता है। पहिया का व्यास (मीटर में) है:

Options :

- 1. ✖ 0.44
- 2. ✔ 0.14
- 3. ✖ 0.24
- 4. ✖ 0.34

Question Number : 83 Question Id : 3354722811 Question Type : MCQ Option Shuffling : Yes Display Question Number : Yes
Single Line Question Option : No Option Orientation : Vertical

Correct : 1 Wrong : 0

DIRECTIONS: What should come in place of the question mark (?) in the following question?

निर्देश: निम्नलिखित प्रश्न में प्रश्नवाचक चिन्ह (?) के स्थान पर क्या आना चाहिए?

2, 13, 67, 271, 817, ?

Options :

- 1. ✖ 1644
- 2. ✔ 1639
- 3. ✖ 1634
- 4. ✖ 1629

Question Number : 84 Question Id : 3354722812 Question Type : MCQ Option Shuffling : Yes Display Question Number : Yes
Single Line Question Option : No Option Orientation : Vertical

Correct : 1 Wrong : 0

DIRECTIONS: What should come in place of the question mark (?) in the following question?

निर्देश: निम्नलिखित प्रश्न में प्रश्नवाचक चिन्ह (?) के स्थान पर क्या आना चाहिए?

36, 43, 53, 66, ?, 101

Options :

- 1. ✖ 77
- 2. ✖ 79
- 3. ✔ 82
- 4. ✖ 85

Question Number : 85 Question Id : 3354722813 Question Type : MCQ Option Shuffling : No Display Question Number : Yes
Single Line Question Option : No Option Orientation : Vertical

Correct : 1 Wrong : 0

DIRECTIONS: What should come in place of the question mark (?) in the following question?

निर्देश: निम्नलिखित प्रश्न में प्रश्नवाचक चिन्ह (?) के स्थान पर क्या आना चाहिए?

20, 38, 74, 146, 290, ?

Options :

- 1. ✖ 576

2. ✓ 578

3. ✗ 580

4. ✗ 574

Question Number : 86 Question Id : 3354722814 Question Type : MCQ Option Shuffling : No Display Question Number : Yes
Single Line Question Option : No Option Orientation : Vertical

Correct : 1 Wrong : 0

In a box there are 4 black, 4 orange and 2 blue marbles. Two marbles are drawn at random. What is the probability that at least one marble is of blue colour?

एक बॉक्स में 4 काले, 4 नारंगी और 2 नीले कंचे हैं। दो कंचों को अनियमित रूप से निकाला जाता है। कम से कम एक कंचे के नीले रंग के होने की प्रायिकता क्या है?

Options :

1. ✗ 0.8

2. ✗ 0.6

3. ✗ 0.2

4. ✓ None of these/इनमें से कोई नहीं

Question Number : 87 Question Id : 3354722815 Question Type : MCQ Option Shuffling : Yes Display Question Number : Yes
Single Line Question Option : No Option Orientation : Vertical

Correct : 1 Wrong : 0

In the recent, Climate Conference in New York, out of 700 men, 500 women, 800 children present inside the building premises, 20% of the men, 40% of the women and 10% of the children were Indians. Find the percentage of people who were not Indian?

अभी हाल ही में न्यूयार्क में सम्पन्न हुए एक कान्फ्रेंस के दौरान 700 पुरुष, 500 महिला और 800 बच्चे एक भवन में शामिल हुए। जिनमें से 20% पुरुष, 40% महिला और 10% बच्चे भारतीय थे। उपस्थित गैर-भारतीयों की प्रतिशत संख्या क्या थी?

Options :

1. ✗ 73%

2. ✗ 77%

3. ✓ 79%

4. ✗ 83%

Question Number : 88 Question Id : 3354722816 Question Type : MCQ Option Shuffling : Yes Display Question Number : Yes
Single Line Question Option : No Option Orientation : Vertical

Correct : 1 Wrong : 0

Ajay used to spend 45% of his income on groceries. Due to inflation, the cost of groceries increases by 20%. Also Ajay's income increases by 12%. What percentage of his increased income should he spend on groceries to buy the same quantities of groceries that he bought earlier?

अजय अपनी आय का 45% किराना सामान पर खर्च करता है। महंगाई के कारण किराने सामान के मूल्य में 20% की वृद्धि हुई। अजय के आय में भी 12% की वृद्धि हुई। जितनी वस्तुएं जो वह पहले खरीदता था उतनी ही वस्तु खरीदने के लिए अब उसे नए आय का कितना प्रतिशत खर्च करना होगा?

Options :

1. ✖ $46\frac{1}{14}\%$

2. ✖ $56\frac{3}{14}\%$

3. ✔ $48\frac{3}{14}\%$

4. ✖ $60\frac{9}{14}\%$

Question Number : 89 Question Id : 3354722817 Question Type : MCQ Option Shuffling : No Display Question Number : Yes
Single Line Question Option : No Option Orientation : Vertical

Correct : 1 Wrong : 0

A man sells an article at a profit of 25%. If he had bought it for 20% less and sold it for Rs.10.50 less, he would have gained 30%. Find the cost price (in Rs.) of the article?

एक व्यक्ति एक वस्तु को 25% के लाभ पर बेचता है। यदि वह इसे 20% कम मूल्य पर खरीदकर तथा 10.50 रु. कम मूल्य पर बेचे, तो उसे 30% का लाभ होगा। वस्तु का क्रय मूल्य (रु.में) ज्ञात करें।

Options :

1. ✖ 40

2. ✖ 60

3. ✔ 50

4. ✖ None of these/इनमें से कोई नहीं

Question Number : 90 Question Id : 3354722818 Question Type : MCQ Option Shuffling : Yes Display Question Number : Yes
Single Line Question Option : No Option Orientation : Vertical

Correct : 1 Wrong : 0

A man sells a table at 12% loss and a book at 19% profit then he earns Rs.160 as profit. But if he sells the table at 12% profit and the book at 16% loss then he bears a loss of Rs.40. Find the price (in Rs.) of one book.

एक व्यक्ति 12% की हानि पर एक टेबल और 19% की लाभ पर एक किताब बेचता है, तो वह 160 रु. का लाभ कमाता है। यदि वह 12% की लाभ पर टेबल और 16% की हानि पर किताब बेचता है, तो उसे 40 रु. की हानि होती है। एक किताब का मूल्य (रु.में) ज्ञात करें।

Options :

1. ✖ 4200

2. ✖ 4100

3. ✖ 4300

4. ✔ 4000

Question Number : 91 Question Id : 3354722819 Question Type : MCQ Option Shuffling : No Display Question Number : Yes
Single Line Question Option : No Option Orientation : Vertical

Correct : 1 Wrong : 0

In an examination, the number of students who passed and the number of students who failed were in the ratio of 25: 4. If five more students had appeared and the number of fail students was 2 less than earlier, the ratio of pass students to fail students would have been 22: 3. The number of students who appeared at the examination is:

किसी परीक्षा में उत्तीर्ण होने वाले छात्रों की संख्या और अनुत्तीर्ण होने वाले छात्रों की संख्या का अनुपात 25:4 था। यदि पांच और छात्र परीक्षा में सम्मिलित होते तथा अनुत्तीर्ण होने वाले छात्रों की संख्या पहले से 2 कम होती, तो उत्तीर्ण तथा अनुत्तीर्ण छात्रों का अनुपात 22 : 3 होता। परीक्षा में शामिल छात्रों की संख्या है:

Options :

1. ✓ 145
2. ✗ 150
3. ✗ 155
4. ✗ 180

Question Number : 92 Question Id : 3354722820 Question Type : MCQ Option Shuffling : Yes Display Question Number : Yes
Single Line Question Option : No Option Orientation : Vertical

Correct : 1 Wrong : 0

Nine liters water are drawn from a cask full of water and it is then filled with milk, again nine liters of mixture are drawn and the cask is again filled with milk. The quantity of water now left in the cask to that of the milk in it is 16: 9 respectively. How much does the cask hold?

पानी से भरे हुए किसी पात्र से 9 लीटर पानी निकालकर उसकी जगह दूध भर दिया जाता है। इस मिश्रण में से 9 लीटर मिश्रण निकालकर इसमें फिर इतना ही दूध भर दिया जाता है। अब पात्र में पानी और दूध का अनुपात क्रमशः 16: 9 है। पात्र की धारिता कितनी है?

Options :

1. ✗ 40 liters/ 40 लीटर
2. ✓ 45 liters/ 45 लीटर
3. ✗ 50 liters/ 50 लीटर
4. ✗ 55 liters/ 55 लीटर

Question Number : 93 Question Id : 3354722821 Question Type : MCQ Option Shuffling : Yes Display Question Number : Yes
Single Line Question Option : No Option Orientation : Vertical

Correct : 1 Wrong : 0

The speeds of two trains are in the ratio 3: 4. They are going in opposite directions along parallel tracks. If each takes 3 seconds to cross a telegraph post, find the time taken by the trains to cross each other completely?

दो रेलगाड़ियों की गति का अनुपात 3 : 4 है। वे समांतर पटरियों पर विपरीत दिशा में जा रही हैं। यदि प्रत्येक रेलगाड़ी को एक खंभे को पार करने में 3 सेकंड लगता है, तो रेलगाड़ियों को एक दूसरे को पूरी तरह पार करने में कितना समय लगेगा?

Options :

1. ✗ 1 second/ 1 सेकंड
2. ✓ 3 seconds/ 3 सेकंड
3. ✗ 5 seconds/ 5 सेकंड
4. ✗ 7 seconds/ 7 सेकंड

Question Number : 94 Question Id : 3354722822 Question Type : MCQ Option Shuffling : Yes Display Question Number : Yes
Single Line Question Option : No Option Orientation : Vertical

Correct : 1 Wrong : 0

If 1 man or 2 women or 4 boys can do a piece of work in 20 days, then 1 man, 1 woman and 1 boy working together can do it in how many days?

यदि 1 आदमी या 2 महिलाएं या 4 लड़के किसी कार्य को 20 दिनों में कर सकते हैं, तो 1 आदमी, 1 महिला और 1 लड़का एक साथ मिलकर उसी काम को कितने दिनों में कर सकते हैं?

Options :

1. ✖ $15\frac{2}{3}$ days/ $15\frac{2}{3}$ दिन

2. ✔ $11\frac{3}{7}$ days/ $11\frac{3}{7}$ दिन

3. ✖ $14\frac{3}{7}$ days/ $14\frac{3}{7}$ दिन

4. ✖ $16\frac{1}{7}$ days/ $16\frac{1}{7}$ दिन

Question Number : 95 Question Id : 3354722823 Question Type : MCQ Option Shuffling : Yes Display Question Number : Yes
Single Line Question Option : No Option Orientation : Vertical

Correct : 1 Wrong : 0

A, B and C undertake to complete a work in Rs. 480. A and B together can do $\frac{1}{4}$ of the work and rest is done by C alone. How much wages (in Rs.) should C get?

A, B और C एक काम को पूरा करने के लिए रु. 480 में ठेका लेते हैं। A और B एक साथ मिलकर उस काम का $\frac{1}{4}$ भाग पूरा करते हैं तथा शेष बचा काम C अकेले पूरा करता है। C को कितनी मजदूरी (रु. में) मिलेगी?

Options :

1. ✔ 360

2. ✖ 120

3. ✖ 240

4. ✖ 180

Question Number : 96 Question Id : 3354722824 Question Type : MCQ Option Shuffling : Yes Display Question Number : Yes
Single Line Question Option : No Option Orientation : Vertical

Correct : 1 Wrong : 0

Let A be the greatest number that divides 1300, 4650 and 6325, leaving the same remainder in each case.

What is the sum of the digits in A?

माना A एक ऐसी सबसे बड़ी संख्या है, जिससे 1300, 4650 और 6325 को विभाजित करने पर प्रत्येक बार समान शेषफल प्राप्त होता है। A के अंकों का योग क्या है?

Options :

1. ✖ 8

2. ✔ 19

3. ✖ 22

4. ✖ 27

Question Number : 97 Question Id : 3354722825 Question Type : MCQ Option Shuffling : Yes Display Question Number : Yes
Single Line Question Option : No Option Orientation : Vertical

Correct : 1 Wrong : 0

If x be a real number, then find the minimum value of $3x^2 + 10x + 8$.

यदि x एक वास्तविक संख्या है, तो $3x^2 + 10x + 8$ का न्यूनतम मान ज्ञात करें।

Options :

1. ✓ $-\frac{1}{3}$

2. ✗ $\frac{1}{3}$

3. ✗ 4

4. ✗ 5

Question Number : 98 Question Id : 3354722826 Question Type : MCQ Option Shuffling : Yes Display Question Number : Yes
Single Line Question Option : No Option Orientation : Vertical

Correct : 1 Wrong : 0

The length of rectangle, which is 24 cm, is equal to the length of a square and the area of the rectangle is 176 cm less than the area of the square. What is the breadth of the rectangle?

एक आयत की लंबाई वर्ग की लंबाई के बराबर है, जो कि 24 सेमी है तथा आयत का क्षेत्रफल वर्ग के क्षेत्रफल से 176 सेमी कम है। आयत की चौड़ाई क्या है?

Options :

1. ✗ 15 cm/ 15 सेमी

2. ✗ 16 cm/ 16 सेमी

3. ✗ $16\frac{1}{3}$ cm/ $16\frac{1}{3}$ सेमी

4. ✓ $16\frac{2}{3}$ cm/ $16\frac{2}{3}$ सेमी

Question Number : 99 Question Id : 3354722827 Question Type : MCQ Option Shuffling : Yes Display Question Number : Yes
Single Line Question Option : No Option Orientation : Vertical

Correct : 1 Wrong : 0

The difference between C.I. and S.I. on a sum for 3 years at 20% per annum is Rs. 640. Find out the principal (in Rs.).

20% वार्षिक ब्याज की दर से 3 वर्ष में किसी मूलधन के चक्रवृद्धि ब्याज और साधारण ब्याज का अंतर रु.640 है। मूलधन (रु.में) ज्ञात करें।

Options :

1. ✓ 5000

2. ✗ 4000

3. ✗ 5400

4. ✗ 6000

Question Number : 100 Question Id : 3354722828 Question Type : MCQ Option Shuffling : Yes Display Question Number : Yes
Single Line Question Option : No Option Orientation : Vertical

Correct : 1 Wrong : 0

A bus has to cover a certain distance in a specified time. If it moves at the speed of 20 kmph, it will get late by 1 hour and if it moves at the speed of 25 kmph, it will reach 1 hour early. Find out the distance (in km).

एक बस एक निश्चित दूरी, एक निश्चित समय में तय करती है। यदि बस 20 किमी/घंटे की गति से चले, तो 1 घंटा देरी से पहुँचती है, और यदि 25 किमी/घंटे की गति से चले तो 1 घंटा पहले पहुँचती है। दूरी (कि.मी. में) ज्ञात करें।

Options :

1. ✖ 150
2. ✔ 200
3. ✖ 180
4. ✖ 220

General GK,IQ,Computer Part 2

Section Id :	33547231
Section Number :	2
Section type :	Online
Mandatory or Optional:	Mandatory
Number of Questions:	100
Number of Questions to be attempted:	100
Section Marks:	100
Display Number Panel:	Yes
Group All Questions:	No

Sub-Section Number:	1
Sub-Section Id:	33547231
Question Shuffling Allowed :	Yes

Question Number : 101 Question Id : 3354722829 Question Type : MCQ Option Shuffling : Yes Display Question Number : Yes
Single Line Question Option : No Option Orientation : Vertical

Correct : 1 Wrong : 0

Shaurya Smarak was inaugurated by PM Modi in -
प्रधान मंत्री मोदी ने शौर्य स्मारक का उद्घाटन कहाँ किया है?

Options :

1. ✖ Dewas/ देवास
2. ✖ Indore/ इंदौर
3. ✔ Bhopal/ भोपाल
4. ✖ Gwalior/ ग्वालियर

Question Number : 102 Question Id : 3354722830 Question Type : MCQ Option Shuffling : Yes Display Question Number : Yes
Single Line Question Option : No Option Orientation : Vertical

Correct : 1 Wrong : 0

Who is the Governor of Madhya Pradesh?
मध्य प्रदेश के राज्यपाल कौन हैं?

Options :

1. ✖ Ram Naresh Yadav/ राम नरेश यादव
2. ✔ Om Prakash Kohli/ ओम प्रकाश कोहली
3. ✖ Rameshwar Thakur/ रामेश्वर ठाकुर
4. ✖ Ram Chandra Yadav/ राम चंद्र यादव

Question Number : 103 Question Id : 3354722831 Question Type : MCQ Option Shuffling : Yes Display Question Number : Yes
Single Line Question Option : No Option Orientation : Vertical

Correct : 1 Wrong : 0

Which is the largest City of Madhya Pradesh?
मध्य प्रदेश का सबसे बड़ा शहर कौन- सा है?

Options :

1. ✔ Indore/ इंदौर

2. ✖ Bhopal/ भोपाल
3. ✖ Jabalpur/ जबलपुर
4. ✖ Ujjain/ उज्जैन

Question Number : 104 Question Id : 3354722832 Question Type : MCQ Option Shuffling : Yes Display Question Number : Yes
Single Line Question Option : No Option Orientation : Vertical

Correct : 1 Wrong : 0

The Madhya Pradesh government has signed \$ 300 million credit agreement for Madhya Pradesh Higher Education Quality Improvement Project (MPHEQIP) with-
मध्यप्रदेश सरकार ने मध्य प्रदेश उच्च शिक्षा गुणवत्ता सुधार परियोजना (एमपीएचईक्यूआईपी) के लिए निम्न में से किसके साथ \$ 300 मिलियन के ऋण समझौते पर हस्ताक्षर किए हैं?

Options :

1. ✖ IMF/ आईएमएफ
2. ✔ World Bank/ विश्व बैंक
3. ✖ Asian Development Bank/ एशियाई विकास बैंक
4. ✖ BRICS Bank/ ब्रिक्स बैंक

Question Number : 105 Question Id : 3354722833 Question Type : MCQ Option Shuffling : Yes Display Question Number : Yes
Single Line Question Option : No Option Orientation : Vertical

Correct : 1 Wrong : 0

At which of the following parks was the world's first White Tiger Safari inaugurated?
विश्व का सर्वप्रथम व्हाइट टाइगर सफारी का उद्घाटन किस पार्क में हुआ था?

Options :

1. ✖ Kanha National Park/ कान्हा नेशनल पार्क
2. ✖ Panna National Park/ पन्ना नेशनल पार्क
3. ✔ Mukundpur Zoological Park/ मुकुंदपुर जूलॉजिकल पार्क
4. ✖ Kuno National Park/ कुनो नेशनल पार्क

Question Number : 106 Question Id : 3354722834 Question Type : MCQ Option Shuffling : Yes Display Question Number : Yes
Single Line Question Option : No Option Orientation : Vertical

Correct : 1 Wrong : 0

Prime Minister Narendra Modi has launched the Narmada Seva Mission for the conservation of river Narmada at an event held at Amarkantak. In which district of Madhya Pradesh is Amarkantak situated?
प्रधान मंत्री नरेंद्र मोदी ने नर्मदा नदी के संरक्षण के लिए अमरकंटक में आयोजित एक समारोह में नर्मदा सेवा मिशन का शुभारंभ किया है। मध्य प्रदेश के किस जिले में अमरकंटक स्थित है?

Options :

1. ✔ Anoopur/ अनूपपुर
2. ✖ Hoshangabad/ होशंगाबाद
3. ✖ Chhindwara/ छिंदवाड़ा
4. ✖ Ujjain/ उज्जैन

Question Number : 107 Question Id : 3354722835 Question Type : MCQ Option Shuffling : Yes Display Question Number : Yes
Single Line Question Option : No Option Orientation : Vertical

Correct : 1 Wrong : 0

The river Narmada originates from the Maikal hills and drains through the _____ into the Arabian Sea.
नर्मदा नदी मैकाल पहाड़ियों से निकलती है तथा _____ से बहकर अरब सागर में गिरती है।

Options :

1. ✖ Gulf of Kutch/ कच्छ की खाड़ी
2. ✖ Gulf of Mannar/ मन्नार की खाड़ी
3. ✔ Gulf of Khambhat/ खंभात की खाड़ी
4. ✖ Gulf of Aden/ अदन की खाड़ी

Question Number : 108 Question Id : 3354722836 Question Type : MCQ Option Shuffling : Yes Display Question Number : Yes
Single Line Question Option : No Option Orientation : Vertical

Correct : 1 Wrong : 0

The Lata Mangeshkar Award given by the Madhya Pradesh Government, started in the year 1984-85 to honour excellence in the field of light music includes _____ cash-prize along with a certificate of appreciation.

मध्यप्रदेश राज्य सरकार द्वारा दिया जाने वाला लता मंगेशकर पुरस्कार, 1984-85 में सुगम संगीत के क्षेत्र में उत्कृष्टता का सम्मान करने के लिए शुरू किया गया था। इसमें प्रशंसा प्रमाण-पत्र के साथ _____ नगद पुरस्कार भी शामिल है।

Options :

1. ✖ Rs.50,000/ 50,000 रुपये
2. ✔ Rs.1,00,000/ 1,00,000 रुपये
3. ✖ Rs.2,00,000/ 2,00,000 रुपये
4. ✖ Rs.5,00,000/ 5,00,000 रुपये

Question Number : 109 Question Id : 3354722837 Question Type : MCQ Option Shuffling : Yes Display Question Number : Yes
Single Line Question Option : No Option Orientation : Vertical

Correct : 1 Wrong : 0

In which of the following districts of Madhya Pradesh is the Tansen Samaroh held?

निम्नलिखित दिए गए मध्यप्रदेश के जिलों में से किस जिले में तानसेन समारोह का आयोजन किया जाता है?

Options :

1. ✖ Anoopur/ अनूपपुर
2. ✖ Bhopal/ भोपाल
3. ✔ Gwalior/ ग्वालियर
4. ✖ Ujjain / उज्जैन

Question Number : 110 Question Id : 3354722838 Question Type : MCQ Option Shuffling : Yes Display Question Number : Yes
Single Line Question Option : No Option Orientation : Vertical

Correct : 1 Wrong : 0

State tree of Madhya Pradesh is-

मध्य प्रदेश का राज्य वृक्ष कौन- सा है?

Options :

1. ✖ Mango/ आम
2. ✖ Neem/ नीम
3. ✖ Guava/ गुआवा
4. ✔ Banyan/ बरगद

Question Number : 111 Question Id : 3354722839 Question Type : MCQ Option Shuffling : Yes Display Question Number : Yes
Single Line Question Option : No Option Orientation : Vertical

Correct : 1 Wrong : 0

In which of the following districts of Madhya Pradesh is the 'Phadke Studio' situated?

'फाड़के स्टूडियो' मध्य प्रदेश के निम्नलिखित जिलों में से किस जिले में स्थित है?

Options :

1. ✖ Satna/ सतना
2. ✖ Rewa/ रीवा
3. ✔ Dhar/ धार
4. ✖ Ujjain/ उज्जैन

Question Number : 112 Question Id : 3354722840 Question Type : MCQ Option Shuffling : Yes Display Question Number : Yes
Single Line Question Option : No Option Orientation : Vertical

Correct : 1 Wrong : 0

Kunwar Vijay Shah is the Cabinet Minister of Madhya Pradesh for School Education. Which constituency does he belong to?

कुंवर विजय शाह मध्य प्रदेश के स्कूल शिक्षा के कैबिनेट मंत्री हैं। वह कौन-से निर्वाचन क्षेत्र से सम्बंधित है?

Options :

1. ✓ Harsud/ हरसूद
2. ✗ Balaghat/ बालाघाट
3. ✗ Shivpuri/ शिवपुरी
4. ✗ Silvani/ सिलवानी

Question Number : 113 Question Id : 3354722841 Question Type : MCQ Option Shuffling : Yes Display Question Number : Yes
Single Line Question Option : No Option Orientation : Vertical

Correct : 1 Wrong : 0

For which sport is the 'Prabhash Joshi award' given in Madhya Pradesh?
'प्रभाष जोशी पुरस्कार' मध्य प्रदेश में किस खेल के लिए दिया जाता है?

Options :

1. ✗ Kabaddi/ कबड्डी
2. ✓ Malkhambh/ मलखंभ
3. ✗ Chess/ शतरंज
4. ✗ Cricket/ क्रिकेट

Question Number : 114 Question Id : 3354722842 Question Type : MCQ Option Shuffling : Yes Display Question Number : Yes
Single Line Question Option : No Option Orientation : Vertical

Correct : 1 Wrong : 0

Which company has signed an agreement with the Indian Railway Stations Development Corporation Limited (IRSDC) for the redevelopment and modernization of Habibganj Railway Station?
हबीबगंज रेलवे स्टेशन के पुनर्विकास और आधुनिकीकरण के लिए किस कंपनी ने भारतीय रेलवे स्टेशन विकास निगम लिमिटेड (आईआरएसडीसी) के साथ एक समझौता किया है?

Options :

1. ✗ Ambani Group / अम्बानी ग्रुप
2. ✗ Sagar Group / सागर ग्रुप
3. ✓ Bansal Group / बंसल ग्रुप
4. ✗ Adani Group / अदानी ग्रुप

Question Number : 115 Question Id : 3354722843 Question Type : MCQ Option Shuffling : Yes Display Question Number : Yes
Single Line Question Option : No Option Orientation : Vertical

Correct : 1 Wrong : 0

In which district is the Tansen Samaroh held?
तानसेन समरोह किस जिले में आयोजित किया जाता है?

Options :

1. ✗ Bhopal/ भोपाल
2. ✗ Bhojpur/ भोजपुर
3. ✗ Ujjain/ उज्जैन
4. ✓ Gwalior/ ग्वालियर

Question Number : 116 Question Id : 3354722844 Question Type : MCQ Option Shuffling : Yes Display Question Number : Yes
Single Line Question Option : No Option Orientation : Vertical

Correct : 1 Wrong : 0

Kanha National Park in Madhya Pradesh became first tiger reserve in India to officially introduce a mascot named _____, the Barasingha.
मध्य प्रदेश के कान्हा राष्ट्रीय उद्यान आधिकारिक तौर पर _____ बारहसिंगा नामक एक शुभंकर, का आरम्भ करने वाला भारत का प्रथम बाघ आरक्षित वन बन गया।

Options :

1. ✗ Shersingh/ शेरसिंह
2. ✗ Barasingh/ बरसिंह
3. ✓ Bhoorsingh/ भूरसिंह

4. ✖ Shikarsingh/ शिकारसिंह

Question Number : 117 Question Id : 3354722845 Question Type : MCQ Option Shuffling : Yes Display Question Number : Yes
Single Line Question Option : No Option Orientation : Vertical

Correct : 1 Wrong : 0

Raja Bhoj, who gave the name of Bhopal city, also ruled over -
राजा भोज, जिन्होंने भोपाल शहर को नाम दिया, पर भी शासन किया था।

Options :

1. ✖ Indore / इंदौर
2. ✔ Dhar / धार
3. ✖ Both of the above / उपरोक्त दोनों
4. ✖ None of the above / उपरोक्त में से कोई नहीं

Question Number : 118 Question Id : 3354722846 Question Type : MCQ Option Shuffling : Yes Display Question Number : Yes
Single Line Question Option : No Option Orientation : Vertical

Correct : 1 Wrong : 0

Kumar Gandharva award was founded in the year 1992-93 to encourage creativity among youth in the field of-
युवाओं को किस क्षेत्र में रचनात्मकता को प्रोत्साहित करने के लिए कुमार गंधर्व पुरस्कार वर्ष 1992-93 में स्थापित किया गया था?

Options :

1. ✖ Poetry/ कविता
2. ✔ Music/ संगीत
3. ✖ Classical Dance/ शास्त्रीय नृत्य
4. ✖ Literature/ साहित्य

Question Number : 119 Question Id : 3354722847 Question Type : MCQ Option Shuffling : Yes Display Question Number : Yes
Single Line Question Option : No Option Orientation : Vertical

Correct : 1 Wrong : 0

In which district of Madhya Pradesh is the famous tourist destination 'Patalkot valley' located?
प्रसिद्ध पर्यटन स्थल 'पातालकोट घाटी' मध्य प्रदेश के किस जिले में स्थित है?

Options :

1. ✖ Betul/ बैतूल
2. ✖ Balaghat/ बालाघाट
3. ✖ Seoni/ सिवनी
4. ✔ Chhindwara/ छिंदवाड़ा

Question Number : 120 Question Id : 3354722848 Question Type : MCQ Option Shuffling : Yes Display Question Number : Yes
Single Line Question Option : No Option Orientation : Vertical

Correct : 1 Wrong : 0

Indian Scientists have uncovered a pair of 1.6 billion-year-old fossils. The material structurally resembles red algae was found in region in Uttar Pradesh and Madhya Pradesh.
भारतीय वैज्ञानिकों ने 1.6 अरब वर्ष पुरानी जीवाश्मों की एक जोड़ी की खोज की है। उत्तर प्रदेश और मध्य प्रदेश के क्षेत्र में पाया गया यह सामग्री संरचनात्मक रूप से लाल शैवाल जैसा दिखता है।

Options :

1. ✔ Chitrakoot/ चित्रकूट
2. ✖ Datia/ दतिया
3. ✖ Tikamgarh/ टीकमगढ़
4. ✖ Bhind/ भिंड

Question Number : 121 Question Id : 3354722849 Question Type : MCQ Option Shuffling : Yes Display Question Number : Yes
Single Line Question Option : No Option Orientation : Vertical

Correct : 1 Wrong : 0

Madhya Pradesh government signed 4 MoUs with _____ during a business seminar on Chief Minister Shivraj Singh Chauhan's visit in 2016.

मध्य प्रदेश सरकार ने मुख्यमंत्री शिवराज सिंह चौहान की 2016 यात्रा के दौरान एक व्यापार संगोष्ठी में _____ के साथ 4 समझौता ज्ञापनों पर हस्ताक्षर किए।

Options :

- ✖ France/ फ्रांस
- ✖ Germany/ जर्मनी
- ✖ United States/ संयुक्त राज्य अमेरिका
- ✔ Singapore/ सिंगापुर

Question Number : 122 Question Id : 3354722850 Question Type : MCQ Option Shuffling : Yes Display Question Number : Yes
Single Line Question Option : No Option Orientation : Vertical

Correct : 1 Wrong : 0

It is said that Raja Ashok's wife was from _____, which was a city located in the north of today's Bhopal.
ऐसा कहा जाता है कि सम्राट अशोक की पत्नी _____ से थी, जो आज के भोपाल के उत्तर में स्थित एक शहर है।

Options :

- ✖ Indore/ इंदौर
- ✖ Sehore/ सीहोर
- ✖ Damoh/ दमोह
- ✔ Vidisha/ विदिशा

Question Number : 123 Question Id : 3354722851 Question Type : MCQ Option Shuffling : Yes Display Question Number : Yes
Single Line Question Option : No Option Orientation : Vertical

Correct : 1 Wrong : 0

Which of the following cities had Mahakavi Kalidas described in his masterpiece 'Meghdootam'?
महाकवि कालिदास ने अपनी कृति 'मेघदूत' में निम्न में से किस शहर का वर्णन किया है?

Options :

- ✔ Ujjain/ उज्जैन
- ✖ Sanchi/ सांची
- ✖ Bhojpur/ भोजपुर
- ✖ Sarnath/ सारनाथ

Question Number : 124 Question Id : 3354722852 Question Type : MCQ Option Shuffling : Yes Display Question Number : Yes
Single Line Question Option : No Option Orientation : Vertical

Correct : 1 Wrong : 0

The Union Government has announced the expansion of _____ vaccine in five additional states under Universal Immunisation Programme (UIP) including Madhya Pradesh.

केंद्रीय सरकार ने मध्य प्रदेश सहित यूनिवर्सल टीकाकरण कार्यक्रम (यूआईपी) के तहत पांच अतिरिक्त राज्यों में _____ टीका के विस्तार की घोषणा की है।

Options :

- ✖ Hepatitis/ हेपेटाइटिस
- ✔ Rotavirus/ रोटावायरस
- ✖ Measles/ मीसल्स
- ✖ Pneumonia/ निमोनिया

Question Number : 125 Question Id : 3354722853 Question Type : MCQ Option Shuffling : Yes Display Question Number : Yes
Single Line Question Option : No Option Orientation : Vertical

Correct : 1 Wrong : 0

Who was the first Chief Justice of Madhya Pradesh High court?

मध्य प्रदेश उच्च न्यायालय के पहले मुख्य न्यायाधीश कौन थे?

Options :

- ✔ Justice Mr. M. Hidayatullah/ न्यायाधीश श्री एम. हिदायतुल्लाह

2. ✖ Justice Mr. A.K. Mathur / न्यायाधीश श्री ए.के. माथुर
3. ✖ Justice Mr. Shivdayal P. Shrivastava / न्यायाधीश श्री. शिवदयाल पी. श्रीवास्तव
4. ✖ Justice Mr. Ajay Manikrao Khanwilkar / न्यायाधीश श्री अजय माणिकराव खानविलकर

Question Number : 126 Question Id : 3354722854 Question Type : MCQ Option Shuffling : Yes Display Question Number : Yes
Single Line Question Option : No Option Orientation : Vertical

Correct : 1 Wrong : 0

Which of the following is not a part of money management activities?

निम्नलिखित में से कौन धन प्रबंधन गतिविधियों का एक तत्त्व नहीं है?

Options :

1. ✖ Creating and implementing a budget / बजट बनाना और कार्यावित्त करना
2. ✖ Storing and maintaining your personal financial records in a home file / होम फाइल में आपके निजी वित्तीय रिकॉर्डों का भंडारण करना और उसका संचालन करना
3. ✔ Storing your personal belongings at a mini-warehouse / किसी मिनी-वेयरहाउस में अपने निजी सामानों को भंडारित करना
4. ✖ Creating personal financial statements / निजी वित्तीय विवरण तैयार करना

Question Number : 127 Question Id : 3354722855 Question Type : MCQ Option Shuffling : No Display Question Number : Yes
Single Line Question Option : No Option Orientation : Vertical

Correct : 1 Wrong : 0

Which one of the following would NOT generally be considered an aspect of operations management?

निम्नांकित में से किसे सामान्यतः परिचालन प्रबंधन के एक आयाम के रूप में नहीं माना जाएगा?

Options :

1. ✖ Maintain quality / गुणवत्ता बनाए रखना
2. ✖ Product or service design / प्रोडक्ट या सेवा डिजाइन
3. ✔ Secure financial resources / सुरक्षित वित्तीय संसाधन
4. ✖ Manage inventories / इन्वेंटरीज का प्रबंधन

Question Number : 128 Question Id : 3354722856 Question Type : MCQ Option Shuffling : Yes Display Question Number : Yes
Single Line Question Option : No Option Orientation : Vertical

Correct : 1 Wrong : 0

Which of the following is not an example of intangible assets?

निम्नलिखित में से कौन अप्रत्यक्ष संपत्ति का एक उदाहरण नहीं है?

Options :

1. ✖ Franchise rights / फ्रैंचाइज अधिकार
2. ✖ Goodwill / साख
3. ✖ Patents / पेटेंट
4. ✔ Land / भूमि

Question Number : 129 Question Id : 3354722857 Question Type : MCQ Option Shuffling : No Display Question Number : Yes
Single Line Question Option : No Option Orientation : Vertical

Correct : 1 Wrong : 0

An employee is layoff when:

किसी कर्मचारी को तब छुटनी कर दी जाती है, जब:

Options :

1. ✖ He lack skills / उसमें कौशल का अभाव होता है
2. ✖ He commits a mistake / वह कोई गलती करता है
3. ✔ Employer could not employ the employee / नियोक्ता उस कर्मचारी को नियुक्त नहीं कर सकता है
4. ✖ None of the above / उपरोक्त में से कोई नहीं

Question Number : 130 Question Id : 3354722858 Question Type : MCQ Option Shuffling : Yes Display Question Number : Yes
Single Line Question Option : No Option Orientation : Vertical

Correct : 1 Wrong : 0

The ability to influence people through granting or withholding benefits that are of interest to them is called?
उन लाभों की मंजूरी देकर या उन्हें रोककर जो उनके हित में होते हैं, लोगों को प्रभावित करने की क्षमता क्या कहलाती है?

Options :

- ✗ Reference power / संदर्भ शक्ति
- ✗ Legitimate power / वैध शक्ति
- ✓ Reward power / पुरस्कार शक्ति
- ✗ Coercive power / अवपीड़क शक्ति

Question Number : 131 Question Id : 3354722859 Question Type : MCQ Option Shuffling : Yes Display Question Number : Yes
Single Line Question Option : No Option Orientation : Vertical

Correct : 1 Wrong : 0

Which of the following is a way to increase participation?

निम्नलिखित में से कौन भागीदारी बढ़ाने का एक तरीका है?

Options :

- ✓ Plan the meetings and share meeting agendas with people beforehand / मीटिंग्स की योजना बनाना और मीटिंग के विषयों के बारे में लोगों को बताना
- ✗ Ask the leader of the group to run the meeting and talk the most / समूह के लीडर को मीटिंग संचालित करने को कहना और सबसे अधिक बात करना
- ✗ Encourage everyone to talk whenever they have something to say, even if another person is talking / जब किसी के पास कुछ कहने को हो, तो हर किसी को बात करने के लिए प्रोत्साहित करना भले ही दूसरा व्यक्ति तब बात कर रहा हो
- ✗ Point out dominating behaviour to everyone / हर किसी को हावी होने वाले व्यवहार का संकेत देना

Question Number : 132 Question Id : 3354722860 Question Type : MCQ Option Shuffling : Yes Display Question Number : Yes
Single Line Question Option : No Option Orientation : Vertical

Correct : 1 Wrong : 0

Which of the following is the most correct answer to the question "Why do event sponsors provide financial and in-kind support for an event"?

निम्नलिखित में से कौन "ईवेंट प्रायोजक, ईवेंट के लिए वित्तीय तथा वस्तु-रूप में सहायता क्यों देते हैं" प्रश्न का सबसे सही उत्तर है:

Options :

- ✗ It is their legal obligation to do so / ऐसा करना उनकी कानूनी बाध्यता है
- ✗ They are afraid that other companies will do so instead / उन्हें भय रहता है कि ऐसा अन्य कंपनियाँ कर बैठेंगी
- ✗ They can write off the cost against the tax system / वे कर प्रणाली से लागत हटा सकते हैं
- ✓ They anticipate receiving exposure of their brand in a particular market segment / वे किसी विशेष मार्केट खंड में अपने ब्रांड के अनुभव पाने का पूर्वानुमान करते हैं

Question Number : 133 Question Id : 3354722861 Question Type : MCQ Option Shuffling : Yes Display Question Number : Yes
Single Line Question Option : No Option Orientation : Vertical

Correct : 1 Wrong : 0

What are the three interpersonal roles of managers?

प्रबंधकों की तीन पारस्परिक भूमिकाएँ क्या होती हैं?

Options :

- ✓ Figurehead, leader and liaison / कल्पित, लीडर तथा मेल-जोल
- ✗ Spokesperson, leader, coordinator / प्रवक्ता, लीडर, संयोजक
- ✗ Director, coordinator, disseminator / निदेशक, संयोजक, प्रसारक
- ✗ Communicator, organiser, spokesperson / संचारकर्ता, संयोजक, प्रवक्ता

Question Number : 134 Question Id : 3354722862 Question Type : MCQ Option Shuffling : No Display Question Number : Yes
Single Line Question Option : No Option Orientation : Vertical

Correct : 1 Wrong : 0

What is a social enterprise concerned with?

सामाजिक उपक्रम किस चीज़ से जुड़ा होता है?

Options :

- ✗ Profit maximisation / लाभ अधिक से अधिक करना

2. ✖ Maximising market share/ बाज़ार की हिस्सेदारी अधिक से अधिक बढ़ाना
3. ✖ Providing public service/ लोगों को सेवा प्रदान करना
4. ✔ Running a business to create social benefits/ सामाजिक लाभों का सृजन करने के लिए एक व्यवसाय चलाना

Question Number : 135 Question Id : 3354722863 Question Type : MCQ Option Shuffling : Yes Display Question Number : Yes
Single Line Question Option : No Option Orientation : Vertical

Correct : 1 Wrong : 0

If actual performance exceeds the expected performance of the product, then customer is said to be:
यदि उत्पाद के अपेक्षित प्रदर्शन से वास्तविक प्रदर्शन अधिक होता है, तब ग्राहक को क्या कहा जाता है:

Options :

1. ✖ Satisfied/ संतुष्ट
2. ✖ Dissatisfied/ असंतुष्ट
3. ✔ Delighted/ प्रसन्न
4. ✖ Neutral/ उदासीन

Question Number : 136 Question Id : 3354722864 Question Type : MCQ Option Shuffling : Yes Display Question Number : Yes
Single Line Question Option : No Option Orientation : Vertical

Correct : 1 Wrong : 0

Which one is not a recognised key skill of management?
निम्न में से कौन प्रबंधन का एक मान्यताप्राप्त अहम कौशल नहीं है?

Options :

1. ✖ Conceptual skills/ अवधारणात्मक कौशल
2. ✖ Human skills/ मानवीय कौशल
3. ✖ Technical skills/ तकनीकी कौशल
4. ✔ Writing skills/ लेखन कौशल

Question Number : 137 Question Id : 3354722865 Question Type : MCQ Option Shuffling : No Display Question Number : Yes
Single Line Question Option : No Option Orientation : Vertical

Correct : 1 Wrong : 0

Guiding and supervising the efforts of subordinates towards the attainment of the organization's goals describes the function of:
संगठन के लक्ष्यों को हासिल करने की दिशा में अपने कनिष्ठों के प्रयासों को मार्गदर्शन देना और निरीक्षण करना किस कार्य का वर्णन करता है:

Options :

1. ✖ Planning/ नियोजन
2. ✖ Organizing/ संगठन प्रक्रिया
3. ✔ Directing/ निर्देशन प्रक्रिया
4. ✖ Controlling/ नियंत्रण प्रक्रिया

Question Number : 138 Question Id : 3354722866 Question Type : MCQ Option Shuffling : Yes Display Question Number : Yes
Single Line Question Option : No Option Orientation : Vertical

Correct : 1 Wrong : 0

Which of the following equations properly represents a derivation of the fundamental accounting equation?
निम्नांकित में से कौन से समीकरण मूल लेखांकन समीकरण के किसी विचलन को सही रूप से निरूपित करता है?

Options :

1. ✖ Assets + liabilities = owner's equity / परिसंपत्तियाँ + देयताएँ = मालिक की हिस्सेदारी
2. ✔ Assets - liabilities = owner's equity / परिसंपत्तियाँ - देयताएँ = मालिक की हिस्सेदारी
3. ✖ Assets = owner's equity / परिसंपत्तियाँ = मालिक की हिस्सेदारी
4. ✖ All of the above/ उपरोक्त सभी

Question Number : 139 Question Id : 3354722867 Question Type : MCQ Option Shuffling : Yes Display Question Number : Yes
Single Line Question Option : No Option Orientation : Vertical

Correct : 1 Wrong : 0

A special right given to a business person to sell a company's products. (e.g. Mcdonalds, Levis)
किसी कंपनी के उत्पादों को बेचने के लिए किसी व्यावसायिक व्यक्ति को दिया गया एक विशेष अधिकार (जैसे कि मैकडोनाल्ड्स (Mcdonalds), लिवाइस)

Options :

- ✗ Subsidy/ अनुदान
- ✗ Ethics/ नैतिकता
- ✓ Franchise/ फ्रेंचाइज
- ✗ Quota/कोटा

Question Number : 140 Question Id : 3354722868 Question Type : MCQ Option Shuffling : Yes Display Question Number : Yes
Single Line Question Option : No Option Orientation : Vertical

Correct : 1 Wrong : 0

A belief that products should be free to move from country to country without barriers or obstacles:
एक अवधारणा कि उत्पादों को एक देश से दूसरे में बिना बाधा या रुकावटों के आने-जाने दिया जाना चाहिए, को कहा जाता है:

Options :

- ✓ Free trade/ मुफ्त व्यापार
- ✗ Translate/ अनुवाद
- ✗ Entrepreneur/ उद्यमी
- ✗ Domestic trade/ घरेलू व्यापार

Question Number : 141 Question Id : 3354722869 Question Type : MCQ Option Shuffling : No Display Question Number : Yes
Single Line Question Option : No Option Orientation : Vertical

Correct : 1 Wrong : 0

Database management system should have following feature:
डेटाबेस प्रबंधन सिस्टम में निम्नलिखित विशेषता होनी चाहिए:

Options :

- ✗ Authorized access/ अधिकृत एक्सेस
- ✗ Safety/security of information stored/ संग्रहीत सूचना की सुरक्षा/भरोसा
- ✗ Protect data from system failure/ सिस्टम की विफलता से सुरक्षित डेटा
- ✓ All of the above/ उपरोक्त सभी

Question Number : 142 Question Id : 3354722870 Question Type : MCQ Option Shuffling : No Display Question Number : Yes
Single Line Question Option : No Option Orientation : Vertical

Correct : 1 Wrong : 0

Which of the following refers to the flow of information among persons at different levels, who have no direct reporting relationships?

निम्नलिखित में से कौन विभिन्न स्तरों के उन लोगों के बीच सूचना के प्रवाह को निरूपित करता है, जिनके पास कोई प्रत्यक्ष रिपोर्टिंग संबंध नहीं होता?

Options :

- ✗ Horizontal communication/ क्षैतिज संचार
- ✓ Diagonal communication/ विकर्णीय संचार
- ✗ Upward communication/ ऊर्ध्वगामी संचार
- ✗ Forward communication/ अग्रगामी संचार

Question Number : 143 Question Id : 3354722871 Question Type : MCQ Option Shuffling : Yes Display Question Number : Yes
Single Line Question Option : No Option Orientation : Vertical

Correct : 1 Wrong : 0

The focus of human resource management is:
मानव संसाधन प्रबंधन का लक्ष्य होता है:

Options :

- ✗ Money/धन
- ✓ People/लोग

3. ✖ Machinery/मशीनरी
4. ✖ Land/भूमि

Question Number : 144 Question Id : 3354722872 Question Type : MCQ Option Shuffling : No Display Question Number : Yes
Single Line Question Option : No Option Orientation : Vertical

Correct : 1 Wrong : 0

Raising consumer awareness of a commodity or product, produces sales, and makes brand reliability is:
किसी क्मोडिटी या उत्पाद की उपभोक्ता जागरूकता फैलाना, उत्पाद बिक्री तथा ब्रांड की विश्वसनीयता बनाना है:

Options :

1. ✔ Promotion/संवर्धन
2. ✖ Location/स्थान
3. ✖ Product/उत्पाद
4. ✖ Decision/निर्णय

Question Number : 145 Question Id : 3354722873 Question Type : MCQ Option Shuffling : No Display Question Number : Yes
Single Line Question Option : No Option Orientation : Vertical

Correct : 1 Wrong : 0

Which of the following factor influence(s) employee compensation?
निम्नलिखित में से कौन सा कारक कर्मचारी की क्षतिपूर्ति करता है?

Options :

1. ✖ Labour market/श्रम बाजार
2. ✖ Cost of living/जीवन जीने की लागत
3. ✖ Labour unions/मजदूर यूनियन
4. ✔ All of the above/उपरोक्त सभी

Question Number : 146 Question Id : 3354722874 Question Type : MCQ Option Shuffling : No Display Question Number : Yes
Single Line Question Option : No Option Orientation : Vertical

Correct : 1 Wrong : 0

Mass production is characterized by:
मास उत्पादन का क्या गुण होता है:

Options :

1. ✖ Low volume high variety/निम्न मात्रा उच्च विविधता
2. ✔ High volume low variety/उच्च मात्रा निम्न विविधता
3. ✖ High volume high variety/उच्च मात्रा उच्च विविधता
4. ✖ Low volume low variety/निम्न मात्रा निम्न विविधता

Question Number : 147 Question Id : 3354722875 Question Type : MCQ Option Shuffling : Yes Display Question Number : Yes
Single Line Question Option : No Option Orientation : Vertical

Correct : 1 Wrong : 0

The first step in the problem-solving process is to:
समस्या-समाधान प्रक्रिया का पहला चरण होता है:

Options :

1. ✔ Define the problem/समस्या को परिभाषित करना
2. ✖ Determine the goals/लक्ष्य का निर्धारण करना
3. ✖ Generate solutions/समाधान तैयार करना
4. ✖ Analyze the problem/समस्या का विश्लेषण करना

Question Number : 148 Question Id : 3354722876 Question Type : MCQ Option Shuffling : No Display Question Number : Yes
Single Line Question Option : No Option Orientation : Vertical

Correct : 1 Wrong : 0

The following is (are) non-verbal communication:
निम्नलिखित गैर-मौखिक संचार होता है (होते हैं):

Options :

1. ✖ Facial expression/ चेहरे की अभिव्यक्ति
2. ✖ Appearance/ वेश-भूषा
3. ✖ Posture/ मुद्रा
4. ✔ All of the above/ उपरोक्त सभी

Question Number : 149 Question Id : 3354722877 Question Type : MCQ Option Shuffling : Yes Display Question Number : Yes
Single Line Question Option : No Option Orientation : Vertical

Correct : 1 Wrong : 0

The conflict management style that is used by people with a "win-lose" philosophy is labelled as:
टकराव प्रबंधन शैली जिसका इस्तेमाल "जीत-हार" दर्शन वाले लोगों द्वारा किया जाता है, उसे इस प्रकार से नामांकित किया जाता है:

Options :

1. ✖ A competitive style/ एक प्रतियोगी शैली
2. ✔ A confrontational style/ एक प्रतिरोधात्मक शैली
3. ✖ An aggressive style/ एक आक्रामक शैली
4. ✖ A cooperative style/ एक सहयोगी शैली

Question Number : 150 Question Id : 3354722878 Question Type : MCQ Option Shuffling : Yes Display Question Number : Yes
Single Line Question Option : No Option Orientation : Vertical

Correct : 1 Wrong : 0

All definitions of Corporate Social Responsibility recognize that:
कॉर्पोरेट सोशल रिस्पॉन्सिबिलिटी की सभी परिभाषाएं यह मानती हैं कि:

Options :

1. ✔ Companies have a responsibility for their impact on society and environment/ कंपनियों द्वारा समाज तथा पर्यावरण पर पड़ने वाले प्रभाव के लिए कंपनियाँ जिम्मेदार होती हैं
2. ✖ The natural environment should be the main focus of CSR activities/ प्राकृतिक पर्यावरण सीएसआर गतिविधियों का मुख्य लक्ष्य होना चाहिए
3. ✖ Business ethics is a complex issue/ व्यवसाय नैतिकता एक जटिल मुद्दा है
4. ✖ Companies must pay equal attention to business ethics and sustainability/ कंपनियों को व्यवसाय नैतिकता तथा धारणीयता पर समान रूप से ध्यान देना चाहिए

Question Number : 151 Question Id : 3354722879 Question Type : MCQ Option Shuffling : Yes Display Question Number : Yes
Single Line Question Option : No Option Orientation : Vertical

Correct : 1 Wrong : 0

GUI stands for?/जीयूआई है?

Options :

1. ✔ Graphical User Interface/ग्राफिकल यूजर इंटरफेस
2. ✖ Greater User Interface/ग्रेटर यूजर इंटरफेस
3. ✖ Graphical Union Interface/ग्राफिकल यूनियन इंटरफेस
4. ✖ Graphical User Interest/ग्राफिकल यूजर इंटररेस्ट

Question Number : 152 Question Id : 3354722880 Question Type : MCQ Option Shuffling : Yes Display Question Number : Yes
Single Line Question Option : No Option Orientation : Vertical

Correct : 1 Wrong : 0

Which of the following file format supports in windows 7?
निम्नलिखित में से कौन सा फ़ाइल स्वरूप विंडोज 7 में सपोर्ट करता है?

Options :

1. ✔ NTFS
2. ✖ BSD
3. ✖ EXT
4. ✖ All of the above/ उपरोक्त सभी

Question Number : 153 Question Id : 3354722881 Question Type : MCQ Option Shuffling : Yes Display Question Number : Yes
Single Line Question Option : No Option Orientation : Vertical

Correct : 1 Wrong : 0

Which shortcut key is used to close a document?

दस्तावेज़ को बंद करने के लिए किस शॉर्टकट कुंजी का उपयोग किया जाता है?

Options :

1. ✖ Alt+F4
2. ✖ Ctrl+C
3. ✔ Ctrl+W
4. ✖ Ctrl+Q

Question Number : 154 Question Id : 3354722882 Question Type : MCQ Option Shuffling : Yes Display Question Number : Yes
Single Line Question Option : No Option Orientation : Vertical

Correct : 1 Wrong : 0

How many address bits are needed to select all memory locations in the 211816K × 1 RAM?

211816 K × 1 रैम में सभी स्मृति स्थानों का चयन करने के लिए कितने एड्रेस बिट्स की आवश्यकता है?

Options :

1. ✖ 8
2. ✖ 10
3. ✔ 14
4. ✖ 16

Question Number : 155 Question Id : 3354722883 Question Type : MCQ Option Shuffling : Yes Display Question Number : Yes
Single Line Question Option : No Option Orientation : Vertical

Correct : 1 Wrong : 0

Which of the following is an example of input device?

इनमें से कौन सी इनपुट डिवाइस का एक उदाहरण है?

Options :

1. ✔ Scanner / स्कैनर
2. ✖ Speaker / स्पीकर
3. ✖ CD / सी डी
4. ✖ Printer / प्रिंटर

Question Number : 156 Question Id : 3354722884 Question Type : MCQ Option Shuffling : Yes Display Question Number : Yes
Single Line Question Option : No Option Orientation : Vertical

Correct : 1 Wrong : 0

Which of the following is valid website address?

निम्नलिखित में से कौन सा वैध वेबसाइट पता है?

Options :

1. ✖ websiteopen@.com
2. ✖ www.websiteopen
3. ✖ ww#.websiteopen.com
4. ✔ www.websiteopen.com

Question Number : 157 Question Id : 3354722885 Question Type : MCQ Option Shuffling : Yes Display Question Number : Yes
Single Line Question Option : No Option Orientation : Vertical

Correct : 1 Wrong : 0

Cathode Ray Tube is a form of _____.

कैथोड रे ट्यूब का एक रूप _____ है

Options :

1. ✖ Keyboard / कीबोर्ड

2. ✖ Mouse / माउस
3. ✔ Monitor / मॉनिटर
4. ✖ Mother board / मदर बोर्ड

Question Number : 158 Question Id : 3354722886 Question Type : MCQ Option Shuffling : Yes Display Question Number : Yes
Single Line Question Option : No Option Orientation : Vertical

Correct : 1 Wrong : 0

What is the shortcut key to split a table?
तालिका को विभाजित करने के लिए शॉर्टकट कुंजी क्या है?

Options :

1. ✖ Ctrl+Alt+Enter
2. ✔ Ctrl+Shift+Enter
3. ✖ Alt+Shift+Enter
4. ✖ Alt+Space+Enter

Question Number : 159 Question Id : 3354722887 Question Type : MCQ Option Shuffling : Yes Display Question Number : Yes
Single Line Question Option : No Option Orientation : Vertical

Correct : 1 Wrong : 0

What is full form of JPEG?
जेपीईजी का पूरा रूप क्या है?

Options :

1. ✖ Joint Photo Electronic Group
2. ✖ Joint Picture Electronic Group
3. ✔ Joint Photo Expert Group
4. ✖ Joint Picture Expert Group

Note: For this question, discrepancy is found in question/answer. So, this question is ignored for all candidates.

Question Number : 160 Question Id : 3354722888 Question Type : MCQ Option Shuffling : Yes Display Question Number : Yes
Single Line Question Option : No Option Orientation : Vertical

Correct : 1 Wrong : 0

Software which controls general operations of computer system is classified as
सॉफ्टवेयर जो कंप्यूटर सिस्टम के सामान्य संचालन को नियंत्रित करता है, उसे वर्गीकृत किया जाता है

Options :

1. ✖ Dump programs / डम्प प्रोग्राम्स
2. ✖ Function system / फंक्शन सिस्टम
3. ✔ Operating system / ऑपरेटिंग सिस्टम
4. ✖ Enquiry system / इन्क्वरी सिस्टम

Question Number : 161 Question Id : 3354722889 Question Type : MCQ Option Shuffling : Yes Display Question Number : Yes
Single Line Question Option : No Option Orientation : Vertical

Correct : 1 Wrong : 0

Recently deleted files are stored in
हाल ही में हटाई गई फ़ाइलें संग्रहीत की जाती हैं

Options :

1. ✔ Recycle bin / रीसायकल बिन में
2. ✖ Desktop / डेस्कटॉप
3. ✖ Taskbar / टास्कबार
4. ✖ My computer / माय कंप्यूटर

Question Number : 162 Question Id : 3354722890 Question Type : MCQ Option Shuffling : Yes Display Question Number : Yes
Single Line Question Option : No Option Orientation : Vertical

Correct : 1 Wrong : 0

Why is a refresh cycle necessary for a DRAM?

एक डी रैम के लिए रिफ्रेश साइकिल जरूरी क्यों है?

Options :

- ✖ to clear the flip-flops/ फ्लिप-फ्लॉप को साफ़ करने के लिए
- ✖ to set the flip-flops/ फ्लिप फ्लॉप सेट करने के लिए
- ✖ The refresh cycle discharges the capacitor cells/ रिफ्रेश साइकिल केपेसिटर सेल्स को डिस्चार्ज करता है
- ✔ The refresh cycle keeps the charge on the capacitor cells/ रिफ्रेश साइकिल केपेसिटर सेल्स को चार्ज रखता है

Question Number : 163 Question Id : 3354722891 Question Type : MCQ Option Shuffling : No Display Question Number : Yes
Single Line Question Option : No Option Orientation : Vertical

Correct : 1 Wrong : 0

USB is which type of storage device ?

USB किस प्रकार का स्टोरेज डिवाइस है?

Options :

- ✖ Primay/ प्राइमरी(प्रथम)
- ✖ Secondary/ सेकेंडरी (द्वितीय)
- ✔ Tertiary/ तृतीयक
- ✖ None of above/ उपरोक्त में से कोई भी नहीं

Note: For this question, discrepancy is found in question/answer. So, this question is ignored for all candidates.

Question Number : 164 Question Id : 3354722892 Question Type : MCQ Option Shuffling : Yes Display Question Number : Yes
Single Line Question Option : No Option Orientation : Vertical

Correct : 1 Wrong : 0

Which one of the following is not a search engine?

निम्न में से कौन सा खोज इंजन नहीं है?

Options :

- ✖ Yahoo/ याहू
- ✖ Bing/ बिंग
- ✖ Google/ गूगल
- ✔ Windows/ विंडोज

Question Number : 165 Question Id : 3354722893 Question Type : MCQ Option Shuffling : Yes Display Question Number : Yes
Single Line Question Option : No Option Orientation : Vertical

Correct : 1 Wrong : 0

A hard disk is divided into tracks which are further subdivided into:

एक हार्ड डिस्क को ट्रैक्स में विभाजित किया जाता है जिसे आगे में विभाजित किया जाता है:

Options :

- ✖ Clusters/ क्लस्टरर्स
- ✔ Sectors/ सेक्टरर्स
- ✖ Vectors/ वेक्टरर्स
- ✖ Heads/ हेड्स

Question Number : 166 Question Id : 3354722894 Question Type : MCQ Option Shuffling : Yes Display Question Number : Yes
Single Line Question Option : No Option Orientation : Vertical

Correct : 1 Wrong : 0

We can change the thickness of a line from ___

हम ___ से एक पंक्ति की मोटाई बदल सकते हैं

Options :

- ✖ Line width/ लाइन विड्थ
- ✖ Line Height/ लाइन हाइट
- ✖ Line Thick/ लाइन थिक

4. ✓ Line Style/ लाइन स्टाइल

Question Number : 167 Question Id : 3354722895 Question Type : MCQ Option Shuffling : Yes Display Question Number : Yes
Single Line Question Option : No Option Orientation : Vertical

Correct : 1 Wrong : 0

MPG is an file extension of which type of files ?

एमपीजी किस प्रकार की फाइल का एक फ़ाइल एक्सटेंशन है?

Options :

1. ✗ Audio/ ऑडियो
2. ✗ Image/ इमेज
3. ✓ Video/ वीडियो
4. ✗ Flash/ फ़्लैश

Question Number : 168 Question Id : 3354722896 Question Type : MCQ Option Shuffling : No Display Question Number : Yes
Single Line Question Option : No Option Orientation : Vertical

Correct : 1 Wrong : 0

ROMs retain data when the _____.

रोम डेटा को बनाए रखता है जब _____

Options :

1. ✗ Power is off/ बिजली बंद है
2. ✗ Power is on/ बिजली चालू है
3. ✗ System is down/ सिस्टम बंद है
4. ✓ All of the above/ उपरोक्त सभी

Question Number : 169 Question Id : 3354722897 Question Type : MCQ Option Shuffling : Yes Display Question Number : Yes
Single Line Question Option : No Option Orientation : Vertical

Correct : 1 Wrong : 0

What is used to make computer chips ?

कंप्यूटर चिप्स बनाने के लिए क्या उपयोग किया जाता है?

Options :

1. ✗ Copper/ कॉपर
2. ✗ Steel/ स्टील
3. ✓ Silicon/ सिलिकॉन
4. ✗ Iron/ आयरन

Question Number : 170 Question Id : 3354722898 Question Type : MCQ Option Shuffling : Yes Display Question Number : Yes
Single Line Question Option : No Option Orientation : Vertical

Correct : 1 Wrong : 0

One nibble is equal to how many bits ?

एक निबल कितने बिट के बराबर है?

Options :

1. ✓ 4 bits/ 4 बिट्स
2. ✗ 8 bits/ 8 बिट्स
3. ✗ 12 bits/ 12 बिट्स
4. ✗ 16 bits/ 16 बिट्स

Question Number : 171 Question Id : 3354722899 Question Type : MCQ Option Shuffling : Yes Display Question Number : Yes
Single Line Question Option : No Option Orientation : Vertical

Correct : 1 Wrong : 0

Disadvantage of using parallel mode of communication is?

संचार में समानांतर मोड का उपयोग करने का नुकसान है?

Options :

1. ✓ It is costly/ यह महंगा है
2. ✗ It is slower/ यह धीमी है
3. ✗ No security/ कोई सुरक्षा नहीं
4. ✗ All of the above/ उपरोक्त सभी

Question Number : 172 Question Id : 3354722900 Question Type : MCQ Option Shuffling : Yes Display Question Number : Yes
Single Line Question Option : No Option Orientation : Vertical

Correct : 1 Wrong : 0

Which file is responsible to start MS Word ?

एमएस वर्ड शुरू करने के लिए कौन सी फाइल जिम्मेदार है?

Options :

1. ✓ Winword.exe
2. ✗ Win.exe
3. ✗ Word.exe
4. ✗ Wordwin.exe

Question Number : 173 Question Id : 3354722901 Question Type : MCQ Option Shuffling : Yes Display Question Number : Yes
Single Line Question Option : No Option Orientation : Vertical

Correct : 1 Wrong : 0

What is full form of DHCP?

डीएचसीपी का पूरा रूप क्या है?

Options :

1. ✓ Dynamic Host Configuration Protocol/डाइनामिक होस्ट कॉन्फिगरेशन प्रोटोकॉल
2. ✗ Domain Host Configuration Protocol/डोमेन होस्ट कॉन्फिगरेशन प्रोटोकॉल
3. ✗ Daily Host Configuration Protocol/दैनिक होस्ट कॉन्फिगरेशन प्रोटोकॉल
4. ✗ Dynamic Host Configuration Prototype/डायनामिक होस्ट कॉन्फिगरेशन प्रोटोटाइप

Question Number : 174 Question Id : 3354722902 Question Type : MCQ Option Shuffling : Yes Display Question Number : Yes
Single Line Question Option : No Option Orientation : Vertical

Correct : 1 Wrong : 0

What is the keyboard shortcut for creating a chart from the selected cells?

चयनित सेल से एक चार्ट बनाने के लिए कीबोर्ड शॉर्टकट क्या है?

Options :

1. ✓ F11
2. ✗ F7
3. ✗ F5
4. ✗ F3

Question Number : 175 Question Id : 3354722903 Question Type : MCQ Option Shuffling : No Display Question Number : Yes
Single Line Question Option : No Option Orientation : Vertical

Correct : 1 Wrong : 0

How can you create a uniform appearance by adding a background image to all slides?

सभी स्लाइड्स पे बैकग्राउंड इमेज जोड़कर, आप सबका एक सामान रूप कैसे बना सकते हैं

Options :

1. ✗ Create a template / एक टेम्पलेट बनाएं
2. ✗ Use the autocorrect wizard / ऑटोकॉरेक्ट विज़ार्ड का उपयोग करें
3. ✓ Edit the slide master / स्लाइड मास्टर को संपादित करें
4. ✗ All of the above / उपरोक्त सभी

Question Number : 176 Question Id : 3354722904 Question Type : MCQ Option Shuffling : Yes Display Question Number : Yes
Single Line Question Option : No Option Orientation : Vertical

Correct : 1 Wrong : 0

DIRECTIONS: In the following question, select the related word from the given alternatives.

निर्देश: निम्नलिखित प्रश्न में, दिए गए विकल्पों में से सम्बन्धित शब्द को चुनिए।

Ornithologist: Birds:: Anthropologist : ?

ओर्निथोलॉजिस्ट: पक्षी:: एंथ्रोपोलॉजिस्ट : ?

Options :

1. ✖ Plants / पौधे
2. ✖ Animals / जानवर
3. ✔ Mankind / मनुष्य
4. ✖ Environment / पर्यावरण

Question Number : 177 Question Id : 3354722905 Question Type : MCQ Option Shuffling : Yes Display Question Number : Yes
Single Line Question Option : No Option Orientation : Vertical

Correct : 1 Wrong : 0

DIRECTIONS: In the following question, select the related word from the given alternatives.

निर्देश: निम्नलिखित प्रश्न में, दिए गए विकल्पों में से सम्बन्धित शब्द को चुनिए।

EJOT : VQLG :: BGLQ : ?

Options :

1. ✖ ZUPK
2. ✖ AFKP
3. ✖ AEIM
4. ✔ YTOJ

Question Number : 178 Question Id : 3354722906 Question Type : MCQ Option Shuffling : Yes Display Question Number : Yes
Single Line Question Option : No Option Orientation : Vertical

Correct : 1 Wrong : 0

DIRECTIONS: In the following question, if the given interchanges are made in signs and numbers, which one would be correct?

निर्देश: निम्नलिखित प्रश्न में, यदि चिन्हों और संख्याओं को परस्पर बदल दिया जाए, तो निम्न में से कौन सा एक सही होगा?

If \times means $+$, $+$ means \div , $-$ means \times and \div means $-$, then $8 \times 7 - 8 + 40 \div 2 = ?$

यदि ' \times ' का अर्थ ' $+$ ', ' $+$ ' का अर्थ ' \div ', ' $-$ ' का अर्थ ' \times ' और ' \div ' का अर्थ ' $-$ ', है, तो $8 \times 7 - 8 + 40 \div 2 = ?$

Options :

1. ✖ 1
2. ✔ $7\frac{2}{5}$
3. ✖ $8\frac{3}{5}$
4. ✖ 44

Question Number : 179 Question Id : 3354722907 Question Type : MCQ Option Shuffling : Yes Display Question Number : Yes
Single Line Question Option : No Option Orientation : Vertical

Correct : 1 Wrong : 0

DIRECTIONS: Find the missing number from the given responses in the following question.

निर्देश: निम्नलिखित प्रश्न में, दिए गए विकल्पों में से लुप्त संख्या ज्ञात करें।

10	85	8
7	54	7
8	?	9

Options :

1. ✖ 72
2. ✔ 77
3. ✖ 74
4. ✖ 79

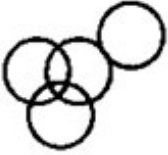
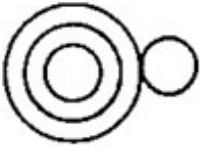
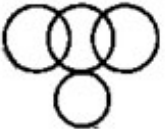
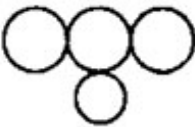
Question Number : 180 Question Id : 3354722908 Question Type : MCQ Option Shuffling : Yes Display Question Number : Yes
Single Line Question Option : No Option Orientation : Vertical

Correct : 1 Wrong : 0

In a class of 46 students, 18 play football, 17 play cricket and 6 play football and cricket both. 16 students play hockey and 4 hockey and cricket, but not football. Five students play carom but no other games. Which of the following figures represents these facts?

एक कक्षा के 46 छात्रों में से, 18 फुटबॉल खेलते हैं, 17 क्रिकेट खेलते हैं, 6 क्रिकेट तथा फुटबॉल दोनों खेलते हैं। 16 छात्र हॉकी खेलते हैं, 4 हॉकी तथा क्रिकेट खेलते हैं, परंतु फुटबॉल नहीं। 5 छात्र कैरम खेलते हैं, परंतु कोई दूसरा खेल नहीं खेलते हैं। निम्न दिए गए विकल्पों में सही संबंध दर्शाने वाली आकृति का चयन करें?

Options :

1. ✖ 
2. ✖ 
3. ✔ 
4. ✖ 

Question Number : 181 Question Id : 3354722909 Question Type : MCQ Option Shuffling : Yes Display Question Number : Yes
Single Line Question Option : No Option Orientation : Vertical

Correct : 1 Wrong : 0

Six friends M, N, O, P and R, are standing in a circle. N is between O and P, M is between O and Q. R and P is standing together. Who is standing between M and R?

6 मित्र M, N, O, P तथा R एक वृत्त में खड़े हैं। N, O व P के बीच में है, M, O व Q के बीच में है। R और P एक साथ खड़े हैं, तो M व R के बीच में कौन खड़ा है?

Options :

1. ✖ N
2. ✖ P

3. ✖ ○

4. ✔ Q

Question Number : 182 Question Id : 3354722910 Question Type : MCQ Option Shuffling : Yes Display Question Number : Yes
Single Line Question Option : No Option Orientation : Vertical

Correct : 1 Wrong : 0

DIRECTIONS: In the following question, five words are given. Which of them will come in the middle, if all of them are arranged alphabetically as in a dictionary?

निर्देश: निम्नलिखित प्रश्न में, पाँच शब्द दिए गए हैं। कौन सा शब्द बीच में आयेगा, यदि सभी शब्दों को अंग्रेजी की वर्णमाला के क्रम में व्यवस्थित किया जाता है ?

Party, Parasite, Petal, Prick, Paste

Options :

1. ✖ Parasite

2. ✖ Petal

3. ✖ Prick

4. ✔ Paste

Question Number : 183 Question Id : 3354722911 Question Type : MCQ Option Shuffling : Yes Display Question Number : Yes
Single Line Question Option : No Option Orientation : Vertical

Correct : 1 Wrong : 0

DIRECTIONS: In the following question, a word has been given, followed by four other words. One of which cannot be formed by using the letters of the given word. Find that word.

निर्देश: निम्नलिखित प्रश्न में, एक शब्द दिया गया है तथा उसके आगे चार अलग शब्द भी दिए गए हैं। उनमें से एक शब्द दिए गए शब्द के अक्षरों से निर्मित नहीं हो सकता। वह शब्द ज्ञात कीजिए।

MIRACULOUS

Options :

1. ✖ MOLAR

2. ✖ LOCUS

3. ✔ SOLACE

4. ✖ SCAR

Question Number : 184 Question Id : 3354722912 Question Type : MCQ Option Shuffling : Yes Display Question Number : Yes
Single Line Question Option : No Option Orientation : Vertical

Correct : 1 Wrong : 0

How many triangles are there in the following square?

दिए गए वर्ग में कितने त्रिभुज हैं?



Options :

1. ✖ 11

2. ✖ 7

3. ✔ 8

4. ✖ 6

Question Number : 185 Question Id : 3354722913 Question Type : MCQ Option Shuffling : Yes Display Question Number : Yes
Single Line Question Option : No Option Orientation : Vertical

Correct : 1 Wrong : 0

DIRECTIONS: Which of the answer figure is exactly the mirror image of the given question figure, when the mirror is held on the line AB?

निर्देश: दी गई उत्तर आकृतियों में से कौन-सी आकृति, दी गई प्रश्न आकृति का सही दर्पण प्रतिबिम्ब है, जब दर्पण को AB पर रखा गया है?

Question Figure: / प्रश्न आकृति



Answer Figures: / उत्तर आकृतियाँ



Options :

1. ✗ a
2. ✗ b
3. ✗ c
4. ✓ d

Question Number : 186 Question Id : 3354722914 Question Type : MCQ Option Shuffling : No Display Question Number : Yes
Single Line Question Option : No Option Orientation : Vertical

Correct : 1 Wrong : 0

A room is called bed, bed is called window, window is called flower and flower is called cooler, on what would a man sleep?

एक कमरे को बिस्तर कहते हैं, बिस्तर को खिड़की कहते हैं, खिड़की को फूल कहते हैं और फूल को कूलर कहते हैं, आदमी किस पर सोता है?

Options :

1. ✗ Cooler / कूलर
2. ✗ Flower / फूल
3. ✓ Window / खिड़की
4. ✗ Bed / बिस्तर

Question Number : 187 Question Id : 3354722915 Question Type : MCQ Option Shuffling : Yes Display Question Number : Yes
Single Line Question Option : No Option Orientation : Vertical

Correct : 1 Wrong : 0

DIRECTIONS: What will come in place of question mark (?) in the following series?

निर्देश: निम्न श्रेणी में प्रश्नवाचक चिन्ह के स्थान पर क्या आएगा?

ZA, BY, XC, DW, ?

Options :

1. ✗ VF
2. ✗ EU
3. ✗ EV
4. ✓ VE

Question Number : 188 Question Id : 3354722916 Question Type : MCQ Option Shuffling : Yes Display Question Number : Yes
Single Line Question Option : No Option Orientation : Vertical

Correct : 1 Wrong : 0

DIRECTIONS: What should come at the place of question mark?

निर्देश: प्रश्न चिन्ह के स्थान पर क्या आना चाहिए?

Q1F, S2E, U6D, W21C, ?

Options :

1. ✖ Y44B

2. ✖ Y66B

3. ✔ Y88B

4. ✖ Z88B

Question Number : 189 Question Id : 3354722917 Question Type : MCQ Option Shuffling : Yes Display Question Number : Yes
Single Line Question Option : No Option Orientation : Vertical

Correct : 1 Wrong : 0

A girl leaves from her home. She first walks 30 meters in North-West direction and then 30 meters in South-West direction. Next, she walks 30 meters in South-East direction. Finally, she turns towards her house. In which direction is she moving?

एक लड़की अपने घर से निकलती है। पहले वह 30 मीटर उत्तर-पश्चिम दिशा में चलती है और फिर 30 मीटर दक्षिण-पश्चिम दिशा में चलती है। फिर वह 30 मीटर दक्षिण-पूर्व दिशा में चलती है। अंततः वह अपने घर की ओर मुड़ जाती है। वह किस दिशा में चल रही है?

Options :

1. ✖ South-East/ दक्षिण-पूर्व

2. ✖ South-West/ दक्षिण-पश्चिम

3. ✔ North-East/ उत्तर- पूर्व

4. ✖ North-West/ उत्तर-पश्चिम

Question Number : 190 Question Id : 3354722918 Question Type : MCQ Option Shuffling : Yes Display Question Number : Yes
Single Line Question Option : No Option Orientation : Vertical

Correct : 1 Wrong : 0

Ram went 15 km to the West from my house then turned left and walked 20 km. He then turned east and walked 25 km and finally turning left covered 20 km. How far was he from my house?

राम मेरे घर से पश्चिम में 15 किमी चला फिर वह बाएं मुड़ा और 20 किमी चला। फिर वह पूर्व में मुड़ा और 25 किमी चला और अंत में वह बाएं मुड़ा और 20 किमी चला। वह मेरे घर से कितनी दूर गया?

Options :

1. ✖ 5 km/ 5 किमी

2. ✔ 10 km/ 10 किमी

3. ✖ 40 km/ 40 किमी

4. ✖ 80 km/ 80 किमी

Question Number : 191 Question Id : 3354722919 Question Type : MCQ Option Shuffling : No Display Question Number : Yes
Single Line Question Option : No Option Orientation : Vertical

Correct : 1 Wrong : 0

Pointing to a boy in a photograph Sudhir said, "He is the son of my maternal grandfather's only child". How is the boy related to Sudhir?

एक तस्वीर की ओर इशारा करते हुए सुधीर ने कहा, " वह मेरे नाना की इकलौती संतान का पुत्र है" लड़का, सुधीर से किस प्रकार सम्बंधित है?

Options :

1. ✖ Self/ स्वयं

2. ✖ Brother/ भाई

3. ✖ Cousin/ कजिन

4. ✔ Data inadequate/ अपर्याप्त जानकारी

Note: For this question, discrepancy is found in question/answer. So, this question is ignored for all candidates.

Question Number : 192 Question Id : 3354722920 Question Type : MCQ Option Shuffling : Yes Display Question Number : Yes
Single Line Question Option : No Option Orientation : Vertical

Correct : 1 Wrong : 0

A is the son of B, while B and C are sisters to one another. E is the mother of C. If D is the son of E, then which of the following statements is correct?

A, B का पुत्र है, जबकि B और C एक-दूसरे की बहने हैं। E, C की माँ है। यदि D, E का पुत्र है, तो निम्नलिखित में से कौन-सा कथन सत्य है?

Options :

1. ✓ D is the maternal uncle of A/ D, A का मामा है
2. ✗ E is the brother of B/ E, B का भाई है
3. ✗ D is the cousin of A/ D, A का कज़िन है
4. ✗ B and D are brothers/ B और D भाई हैं

Question Number : 193 Question Id : 3354722921 Question Type : MCQ Option Shuffling : Yes Display Question Number : Yes
Single Line Question Option : No Option Orientation : Vertical

Correct : 1 Wrong : 0

DIRECTIONS: In the question given below, there are few statements followed by few conclusions. You have to take the given statements to be true even if they seem to be at variance with commonly known facts and then decide which of the given conclusion logically follow(s) from the given statements.

निर्देश: नीचे दिए गए प्रश्न में कुछ कथन और उसके बाद कुछ निष्कर्ष दिए गए हैं। आपको दिए गए कथनों को सत्य मानना है, भले ही वे सर्वज्ञात तथ्यों से भिन्न प्रतीत होते हों। सभी निष्कर्षों को पढ़िए फिर तय कीजिए कि दिए गए निष्कर्षों में से कौन सा तर्कसंगत रूप से अनुसरण करता है, चाहे सर्वज्ञात तथ्य कुछ भी हों।

Statements:

कथन:

Some tents are houses

कुछ टेन्ट, घर हैं

All houses are buildings

सभी घर, इमारत हैं

Some buildings are huts

कुछ इमारतें, झोपड़ी हैं

Conclusions:

निष्कर्ष:

I. Some huts are houses

कुछ झोपड़ियाँ, घर हैं

II. Some buildings are huts

कुछ इमारतें, झोपड़ी हैं

Options :

1. ✗ Only conclusion I follows/ केवल निष्कर्ष I अनुसरण करता है
2. ✓ Only conclusion II follows/ केवल निष्कर्ष II अनुसरण करता है
3. ✗ Either conclusion I or II follows/ या तो निष्कर्ष I या II अनुसरण करता है
4. ✗ Neither conclusion I nor II follows/ न तो निष्कर्ष I न ही II अनुसरण करता है

Question Number : 194 Question Id : 3354722922 Question Type : MCQ Option Shuffling : No Display Question Number : Yes
Single Line Question Option : No Option Orientation : Vertical

Correct : 1 Wrong : 0

DIRECTIONS: In the question given below, there are few statements followed by few conclusions. You have to take the given statements to be true even if they seem to be at variance with commonly known facts and then decide which of the given conclusion logically follow(s) from the given statements.

निर्देश: नीचे दिए गए प्रश्न में कुछ कथन और उसके बाद कुछ निष्कर्ष दिए गए हैं। आपको दिए गए कथनों को सत्य मानना है, भले ही वे सर्वज्ञात तथ्यों से भिन्न प्रतीत होते हों। सभी निष्कर्षों को पढ़िए फिर तय कीजिए कि दिए गए निष्कर्षों में से कौन सा तर्कसंगत रूप से अनुसरण करता है, चाहे सर्वज्ञात तथ्य कुछ भी हों।

Statements:

कथन:

I. All dogs are cats

सभी कुत्ते, बिल्ली हैं

II. No cat is a cow

कोई बिल्ली, गाय नहीं है

Conclusion:

निष्कर्ष:

I. No dogs are cows

कोई कुत्ते, गाय नहीं हैं

II. No cows are dogs

कोई गायें, कुत्ते नहीं हैं

III. Some cows are dogs

कुछ गायें, कुत्ते हैं

Options :

1. ✖ No conclusion follows/ कोई निष्कर्ष अनुसरण नहीं करता है
2. ✔ Only conclusion I and II follow/ केवल निष्कर्ष I और II अनुसरण करते हैं
3. ✖ Only conclusion II and III follow/ केवल निष्कर्ष II और III अनुसरण करते हैं
4. ✖ Only conclusion I follows / केवल निष्कर्ष I अनुसरण करता है

Question Number : 195 Question Id : 3354722923 Question Type : MCQ Option Shuffling : Yes Display Question Number : Yes
Single Line Question Option : No Option Orientation : Vertical

Correct : 1 Wrong : 0

How many such pairs of letters are there in the word FREQUENT, each of which has as many letters between them in the word (in both forward and backward directions) as they have between them in the English alphabetical series?

शब्द 'FREQUENT', में वर्णों के ऐसे कितने जोड़े हैं जिनके बीच उतने ही वर्णों की संख्या है जितने अंग्रेजी वर्णमाला में उन दोनों वर्णों के बीच है? (आगे और पीछे दोनों दिशाओं में)

Options :

1. ✖ None/कोई भी नहीं
2. ✖ One/एक
3. ✔ Two/ दो
4. ✖ Three/तीन

Question Number : 196 Question Id : 3354722924 Question Type : MCQ Option Shuffling : No Display Question Number : Yes
Single Line Question Option : No Option Orientation : Vertical

Correct : 1 Wrong : 0

DIRECTIONS: Select the one which is different from the other three responses.

निर्देश: उस विकल्प का चयन करें जो अन्य तीनों से भिन्न है

Options :

1. ✖ Talking/बात करना
2. ✔ Blinking/ पलक झपकाना
3. ✖ Writing/ लिखना
4. ✖ Sitting/बैठना

Question Number : 197 Question Id : 3354722925 Question Type : MCQ Option Shuffling : Yes Display Question Number : Yes
Single Line Question Option : No Option Orientation : Vertical

Correct : 1 Wrong : 0

In which of the following expressions are the statements 'N < I' and 'A < U' definitely true?

निम्नलिखित में से कौन-सा व्यंजक कथन 'N < I' और 'A < U' के लिए निश्चित रूप से सही है?

Options :

1. ✖ $N \leq U = T < A < K \leq I$
2. ✔ $I > U \geq T = K > A \geq N$
3. ✖ $U > N > A \geq I > T \geq K$
4. ✖ $T < U < N \leq K < A \leq I$

Question Number : 198 Question Id : 3354722926 Question Type : MCQ Option Shuffling : Yes Display Question Number : Yes Single Line Question Option : No Option Orientation : Vertical

Correct : 1 Wrong : 0

Five students participated in the scholarship examination. Sudha scored higher than Pooja. Kavita scored lower than Suma but higher than Sudha. Mamta scored between Pooja and Sudha. Who scored lowest in the examination?

पाँच विद्यार्थी एक छात्रवृत्ति परीक्षा में भाग लेते हैं। सुधा ने पूजा से अधिक अंक अर्जित किये। कविता ने सुमा से कम लेकिन सुधा से अधिक अंक अर्जित किए। ममता के अंक पूजा और सुधा के अंकों के मध्य हैं। किसने सबसे कम अंक अर्जित किए ?

Options :

1. ✖ Kavita/ कविता
2. ✔ Pooja/ पूजा
3. ✖ Mamta/ ममता
4. ✖ Sudha/ सुधा

Question Number : 199 Question Id : 3354722927 Question Type : MCQ Option Shuffling : Yes Display Question Number : Yes Single Line Question Option : No Option Orientation : Vertical

Correct : 1 Wrong : 0

In a class, Vishal ranked 5th from the top and 46th from the bottom. How many total students are there in the class?

एक कक्षा में, विशाल ऊपर से 5 वें स्थान पर और नीचे से 46 वें स्थान पर है। कक्षा में कुल कितने छात्र हैं?

Options :

1. ✔ 50
2. ✖ 49
3. ✖ 48
4. ✖ 51

Question Number : 200 Question Id : 3354722928 Question Type : MCQ Option Shuffling : Yes Display Question Number : Yes Single Line Question Option : No Option Orientation : Vertical

Correct : 1 Wrong : 0

In a certain code language, if the word NESTLE is coded as ODUROB, then how is the word OPPOSITE coded in that language?

किसी निश्चित कूट भाषा में, यदि शब्द NESTLE को कूटित करते हैं ODUROB, तो उस भाषा में शब्द OPPOSITE को कैसे कूटित किया जाएगा?

Options :

1. ✖ PQRMVEXA
2. ✔ PORMVFXA
3. ✖ POSNVGYA
4. ✖ PNSLWEYA